

제 1 교시 국 어

1. ㉠에 들어갈 사과의 말로 가장 적절한 것은?



- ① 네 잘못이 커!
- ② 누가 거기 서 있으래?
- ③ 너, 엄살이 너무 심하구나.
- ④ 미안해. 내가 실수로 그랬어.

2. 느낌을 표현하는 문장은?

- ① 너는 참 멋지구나!
- ② 네 이름이 뭐니?
- ③ 안녕히 주무세요.
- ④ 두부 좀 사다 주렴.

3. 다음 글에서 글쓴이의 마음으로 가장 적절한 것은?

유미야, 어제 네가 생일 선물로 준 꽃이 정말 예뻐서. 향기도 참 좋았어. 멋진 선물을 주어서 고마워.

- ① 미운 마음
- ② 고마운 마음
- ③ 무서운 마음
- ④ 아쉬운 마음

4. 문장의 호응 관계가 가장 적절한 것은?

- ① 숲 속에서 토끼가 지저귄다.
- ② 이 창문은 전혀 쓸모가 없다.
- ③ 나는 동생보다 키가 더 무겁다.
- ④ 그것은 결코 바람직한 행동이다.

5. 다음 중 고유어는?

- ① 커피
- ② 택시
- ③ 하늘
- ④ 학교

6. ㉠에 들어갈 뒷받침 문장으로 가장 적절한 것은?

○ 중심 문장
우리나라에는 명절마다 즐겨 하는 전통 놀이가 있습니다.

- (㉠)
- 단오에는 씨름을 합니다.
- 정월 대보름에는 쥐불놀이를 합니다.

- ① 설날에는 연날리기를 합니다.
- ② 규칙적인 운동은 몸을 건강하게 합니다.
- ③ 책을 통해 유익한 정보를 얻을 수 있습니다.
- ④ 교통질서를 지키면 사고를 예방할 수 있습니다.

7. ㉠에 공통으로 들어갈 가장 적절한 낱말은?

- 너는 웃는 (㉠)이/가 참 예쁘구나.
- 나는 창피해서 (㉠)을/를 들 수가 없었다.

- ① 다리
- ② 마음
- ③ 바다
- ④ 얼굴

8. 문장의 구조가 다른 하나는?

- ① 꽃이 예쁘다.
- ② 가방이 가볍다.
- ③ 토끼가 뛰어간다.
- ④ 합창단이 노래를 부른다.

[9~10] 다음 글을 읽고 물음에 답하시오.

언젠가는 나도 권영상

언젠가는 나도
늪름한 줄무늬 개구리가 되겠지.
지금은 불품없는 꿈지로
숨죽여 사는 올챙이지만
언젠가는 나도 굵고 큼직한 목소리로
노래 부를 수 있겠지.
개굴개굴개굴개굴

지금은 좁은 물웅덩이에 갇혀 사는
어린 올챙이지만
언젠가는 나도
더 큰 세상으로 (㉠)! 뛰어오르는
늪름한 줄무늬 개구리가 되겠지.

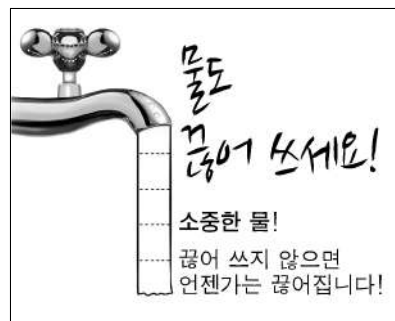
9. 위 시에서 말하는 이는?

- ① 줄무늬
- ② 올챙이
- ③ 노래
- ④ 물웅덩이

10. ㉠에 들어갈 말로 가장 적절한 것은?

- ① 경충
- ② 꼬르륵
- ③ 보글보글
- ④ 새근새근

11. 다음 광고에서 전하려는 내용은?



- ① 물을 아껴 쓰자.
- ② 차례를 잘 지키자.
- ③ 부모님께 효도하자.
- ④ 음식을 남기지 말자.

12. 국어사전에서 ㉠의 뜻을 알아보기 위해 찾아야 할 낱말은?



이튿날 새벽, 우리는 일출을 보기 위하여 우도봉에 올랐다. 해가 ㉠ 뜨기 전이라 그런지 어두워서 주변은 잘 보이지 않았다.

- ① 뜨고 ② 뜨다 ③ 뜨니 ④ 뜨면

13. 다음 글의 공간적 배경은?

일이 늦게 끝나 캄캄한 밤에 혼자 집으로 돌아오던 길이었습니다. 풀숲을 지나는데 찬우의 발길에 놀란 반딧불이가 화려르 날아올랐습니다. 반짝반짝 빛을 내며 수십 마리의 반딧불이가 날아오르자 주변이 환하게 밝아졌습니다.

- ① 밤 ② 풀숲 ③ 아침 ④ 반딧불이

[14~15] 다음 글을 읽고 물음에 답하십시오.

서양에 오페라가 있다면 우리나라에는 판소리가 있습니다. 판소리는 오페라와 같은 종합 예술이지만 다른 점이 있습니다. 판소리는 소리꾼이 홀로 수십 명의 역할을 한다는 점에서 특별한 예술입니다. (㉠) 오페라를 공연하기 위해서는 수십 명의 등장인물이 필요합니다.

판소리는 북 하나만 있으면 어느 곳에서도 공연을 할 수 있습니다. 하지만 오페라에는 많은 비용을 들인 무대 장치와 극장이 필요합니다.

14. ㉠에 들어갈 말로 가장 적절한 것은?

- ① 그러나 ② 별로 ③ 비록 ④ 하필

15. 윗글의 내용으로 알맞지 않은 것은?

- ① 판소리와 오페라는 종합 예술이다.
 ② 오페라는 무대장치와 극장이 필요하다.
 ③ 판소리는 북 하나만 있어도 공연할 수 있다.
 ④ 오페라를 공연하기 위해서는 한 명만 필요하다.

16. ㉠에 들어갈 속담으로 가장 적절한 것은?

“(㉠)”라는 말이 있듯이 아무리 어려운 경우에 처하더라도 살아 나갈 방법이 생기면 마련이야.

- ① 찬물도 위아래가 있다.
 ② 가는 말이 고와야 오는 말이 곱다.
 ③ 하늘이 무너져도 솟아날 구멍이 있다.
 ④ 낮말은 새가 듣고 밤말은 쥐가 듣는다.

[17~18] 다음 글을 읽고 물음에 답하십시오.

성공하는 인생을 살고자 한다면 예쁘고 사랑이 담긴 언어를 써야 합니다. 이런 긍정적인 언어들이 성공의 기회를 끌어당기기 때문이지요. 자신이 쓰는 말버릇이 자신을 소중한 사람으로 만들기도, 천박한 사람으로 만들기도 합니다.

성공한 사람들은 지금 쓰는 말버릇이 미래를 좌우한다는 것을 잘 알고 있습니다. 그래서 일이 잘 풀리지 않거나 어떤 어려움에 처해도 거친 말이나 부정적인 말을 ㉠ 쓰지 않으려고 합니다.

17. 글쓴이가 하고 싶은 말은?

- ① 자연을 개발하자.
 ② 손을 깨끗이 씻자.
 ③ 긍정적인 언어를 사용하자.
 ④ 이산화 탄소의 사용량을 줄이자.

18. ㉠과 같은 의미로 사용된 것은?

- ① 약이 쓰다. ② 커피가 쓰다.
 ③ 입맛이 쓰다. ④ 높임말을 쓰다.

[19~20] 다음 글을 읽고 물음에 답하십시오.

(가)	(나)
<p>오후가 되자, 스크루지는 조카의 집을 향해 발길을 옮겼다.</p> <p>스크루지는 열두 번도 더 대문 앞을 지나치고 나서야 두드릴 용기를 냈다. 어쨌든 스크루지는 마음을 단단히 먹고 문을 두드렸다.</p> <p>문을 열어 준 하녀에게 스크루지가 긴장한 표정으로 물었다.</p> <p>“애야, 주인아저씨 계시냐?”</p> <p>“예, 어르신. 식당에 계십니다. 마님과 함께 계세요. 위층으로 모셔다 드릴까요?”</p>	<p>때: 오후</p> <p>곳: 조카의 집</p> <p>등장인물: 스크루지, 하녀</p> <p>㉠ 스크루지는 긴장한 표정으로 조카의 집 현관 앞에서 있다. 그리고 스크루지는 용기를 내어 문을 두드린다.</p> <p>하녀 (문을 열어 얼굴을 내밀며) 누구세요?</p> <p>스크루지 (㉡)</p> <p>애야, 주인아저씨 계시냐?</p> <p>하녀 (공손하고 차분한 목소리로) 예, 어르신. 식당에 계십니다. 마님과 함께 계세요. 위층으로 모셔다 드릴까요?</p>

19. ㉠에 해당하는 희곡의 요소는?

- ① 관객 ② 대사 ③ 배경 ④ 해설

20. (가)를 (나)로 바꾸어 쓸 때 ㉡에 가장 알맞은 말은?

- ① 눈물을 흘리며 ② 소리를 지르며
 ③ 긴장된 표정을 지으며 ④ 행복한 표정을 지으며

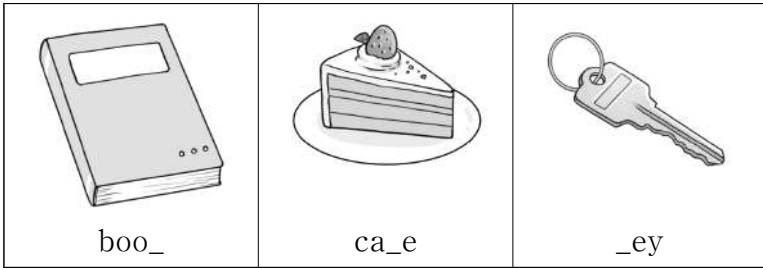
제 3 교시

영 어

1. 알파벳 대문자와 소문자가 바르게 연결된 것은?

- ① A - w ② D - b ③ J - f ④ R - r

2. 빈칸에 공통으로 들어갈 철자로 알맞은 것은?



- ① b ② c ③ k ④ s

3. 빈칸에 들어갈 낱말로 가장 적절한 것은?

A: Is this your umbrella?
 B: Yes, it's _____.

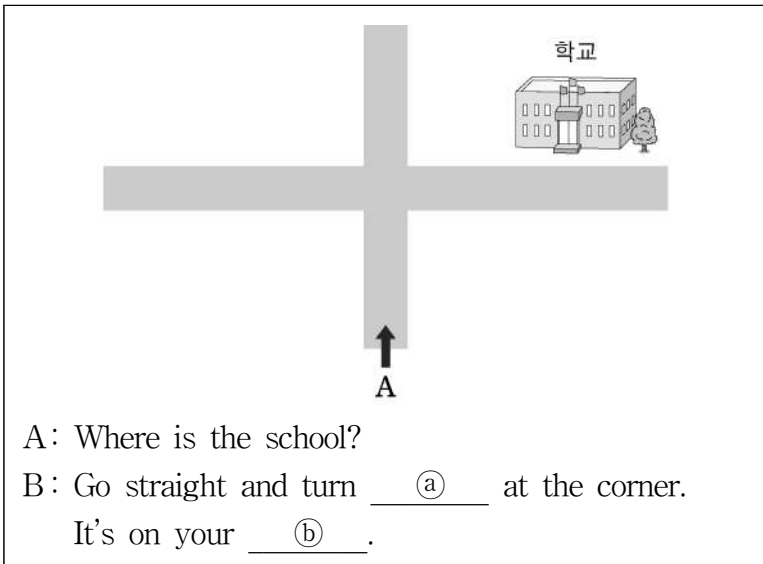
- ① my ② mine ③ you ④ your

4. A의 물음에 대한 거절의 표현으로 알맞은 것은?

A: Can you come to my party?
 B: _____

- ① Sure. ② Of course!
- ③ Sorry, I can't. ④ Yes, I will be there.

5. 그림으로 보아 빈칸 ㉠, ㉡에 들어갈 낱말로 알맞은 것은?



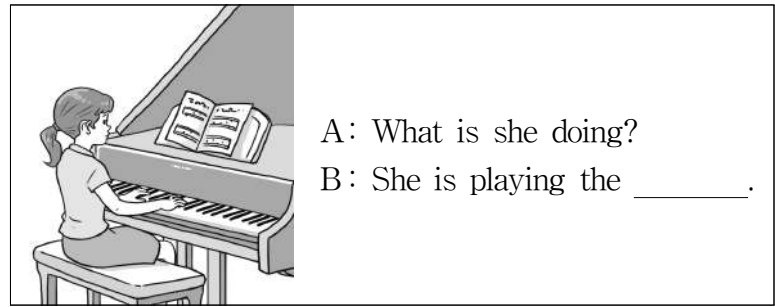
- ① left left ② left right
- ③ right left ④ right right

6. 제이크(Jake)가 진호(Jinho)에게 전화를 한 이유는?

Jake : Hello, may I speak to Jinho?
 Jinho : Speaking.
 Jake : Let's go shopping tomorrow.

- ① 오늘 함께 수영하러 가기 위해
- ② 오늘 함께 영화 보러 가기 위해
- ③ 내일 함께 낚시하러 가기 위해
- ④ 내일 함께 쇼핑하러 가기 위해

7. 빈칸에 들어갈 낱말로 알맞은 것은?



- ① drum ② piano ③ guitar ④ violin

8. B의 증상에 대해 A가 제안한 내용은?

A: What's wrong?
 B: I have a cold.
 A: Get some rest.

- ① 약 먹기 ② 운동하기
- ③ 휴식 취하기 ④ 따뜻한 물 마시기

9. 치마의 가격으로 알맞은 것은?

A: How much is this T-shirt?
 B: It's fifteen dollars.
 A: How much is that skirt?
 B: It's fifty dollars.

- ① \$5 ② \$15 ③ \$50 ④ \$150

10. 그림과 일치하는 것은?



- ① He has a dog.
- ② He has a bird.
- ③ He is wearing a cap.
- ④ He is wearing glasses.


11. B의 여름 방학 계획으로 알맞은 것은?

A: What are you going to do this summer vacation?
 B: I'm going to go camping. How about you?
 A: I'm going to visit my uncle.
 B: Sounds great!

- ① 영화 보기 ② 캠핑 가기
- ③ 그림 그리기 ④ 수영장 가기

12. 그림으로 보아 빈칸 ㉠, ㉡에 들어갈 낱말로 알맞은 것은?

A: Where is the pen?
 B: It is ㉠ the ㉡.




- | | | |
|---|---------|--------|
| | ㉠ | ㉡ |
| ① | in | cup |
| ② | under | cup |
| ③ | behind | chair |
| ④ | between | chairs |

13. 빈칸에 들어갈 낱말로 가장 적절한 것은?

A: _____ do you want to be?
 B: I want to be a doctor.

- ① How ② What ③ When ④ Where

14. 그림으로 보아 빈칸에 들어갈 낱말로 알맞은 것은?



The baseball is _____ than the basketball.

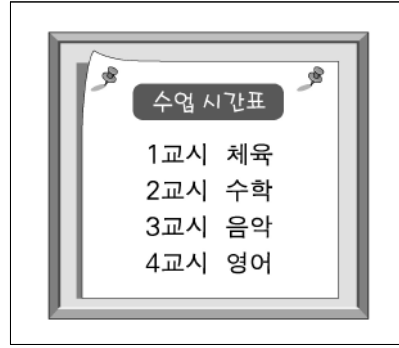
- ① bigger ② longer ③ taller ④ smaller

15. 요일 순서대로 배열할 때 □ 안에 들어갈 낱말로 알맞은 것은?

Sunday - Monday - □ - Wednesday

- ① Tuesday ② Thursday
- ③ Friday ④ Saturday

16. 다음 수업 시간표에 들어 있지 않은 과목은?



- ① Math
- ② Music
- ③ English
- ④ Science

17. B가 지금 있는 곳은?

A: Where are you now?
 B: I am in the kitchen.

- ① 거실 ② 부엌 ③ 침실 ④ 화장실

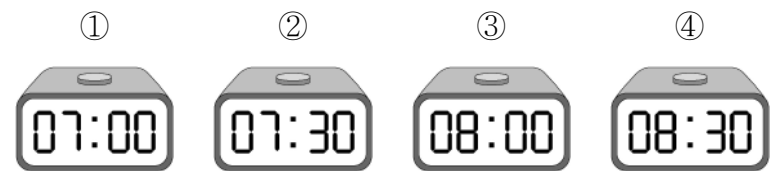
18. A가 B에게 제안한 것은?

A: We should save the Earth.
 How about recycling cans?
 B: Good idea!

- ① 불 끄기 ② 캔 재활용하기
- ③ 수도꼭지 잠그기 ④ 음식 남기지 않기

19. 미나(Mina)가 일어나는 시각은?

My name is Mina. I get up at seven. I eat breakfast at seven thirty. I go to school at eight.



20. 일기의 내용으로 보아 '나(I)'가 하지 않은 일은?

My Birthday

Saturday, May 4, Sunny

Today was my birthday. I went to the park with my family. I ate *gimbap* and played games. I was very happy.

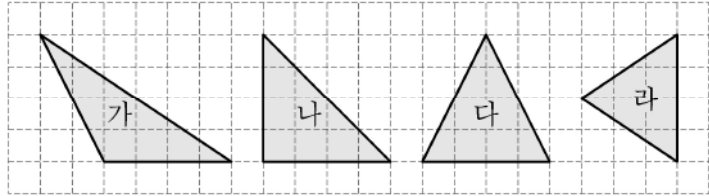
- ① 게임하기 ② 공원 가기
- ③ 김밥 먹기 ④ 선물 사기

제 ② 교시 수 학

1. 26578에서 천의 자리 숫자는?

- ① 2 ② 6 ③ 5 ④ 7

2. 다음 도형 중 둔각삼각형인 것은?



- ① 가 ② 나 ③ 다 ④ 라

3. 표는 어느 학교에서 4명의 학생들이 1년간 읽은 책의 권수를 나타낸 것이다. 1년간 150권 이상의 책을 읽으면 독서상을 준다고 할 때, 독서상을 받을 수 있는 학생의 수는?

이름	하준	채아	민서	주완
권수(권)	146	156	136	150

- ① 1명 ② 2명 ③ 3명 ④ 4명

4. 표와 같이 □와 △ 사이의 대응 관계가 □ × 2 = △일 때, ㉠에 들어갈 알맞은 수는?

□	1	2	3	4	5	6	...
△	2	4	6	㉠	10	12	...

- ① 7 ② 8 ③ 9 ④ 10

5. 식을 바르게 계산한 것은?

$$52 + 6 \times 5 - 28$$

- ① 52 ② 53 ③ 54 ④ 55

6. ㉠과 ㉡에 들어갈 알맞은 수를 순서대로 나열한 것은?

$$1\frac{1}{2} \div \frac{3}{4} = \frac{\text{㉠}}{2} \times \frac{4}{3} = \text{㉡}$$

- ① 3, 1 ② 3, 2 ③ 6, 4 ④ 6, 8

7. <보기>에 제시된 수 중 3의 배수의 총 개수는?

<보기>

$$14, 15, 17, 21, 27, 28, 31$$

- ① 3개 ② 4개 ③ 5개 ④ 6개

8. □ 안에 들어갈 수로 알맞은 것은?

$$0.07 = \frac{7}{\square}$$

- ① 1 ② 10 ③ 100 ④ 1000

9. □ 안에 들어갈 수로 알맞은 것은?

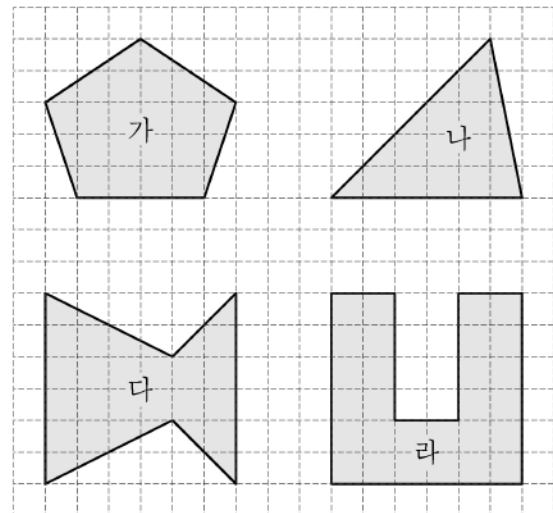
$$3.516 \times 10 = 35.16$$

$$3.516 \times 100 = 351.6$$

$$3.516 \times 1000 = \square$$

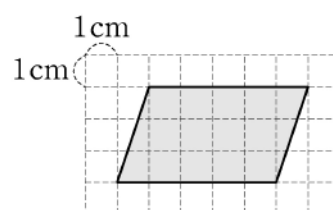
- ① 0.3516 ② 3.516 ③ 3516 ④ 35160

10. 다음 도형 중 선대칭도형이 아닌 것은?



- ① 가 ② 나 ③ 다 ④ 라

11. 다음 평행사변형의 넓이는?



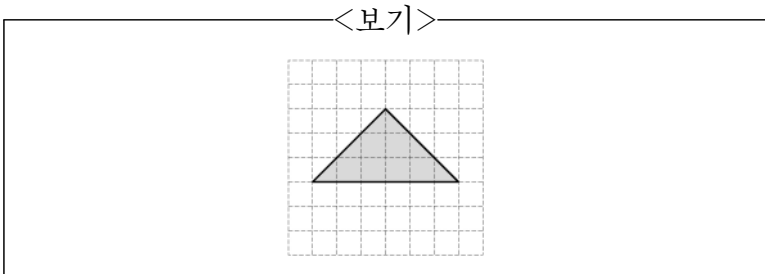
- ① 15 cm²
② 18 cm²
③ 21 cm²
④ 24 cm²

12. 표는 3명의 학생들이 1분 동안 줄넘기를 한 횟수를 나타낸 것이다. ㉠에 들어갈 수는?

이름	지은	서연	주영	합계	평균
횟수(회)	42	49	59	150	㉠

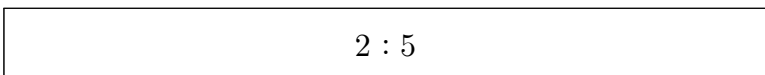
- ① 48 ② 49 ③ 50 ④ 51

13. <보기>의 도형과 합동인 것은?



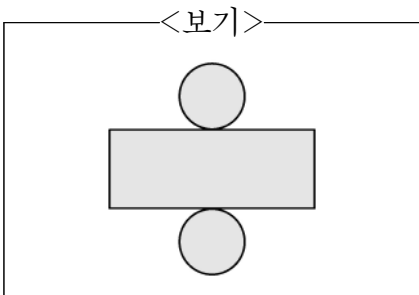
- ① ②
 ③ ④

14. 다음 비의 비율을 분수로 바르게 나타낸 것은?



- ① $\frac{2}{3}$ ② $\frac{2}{5}$ ③ $\frac{3}{5}$ ④ $\frac{3}{7}$

15. <보기>는 어떤 입체도형의 전개도인가?

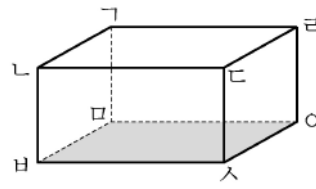


- ① 삼각기둥 ② 사각기둥
 ③ 오각기둥 ④ 원기둥

16. 재영이와 수민이가 가지고 있는 공책 권수의 비는 1:3이다. 재영이가 가지고 있는 공책이 10권일 때, 수민이가 가지고 있는 공책의 권수는?

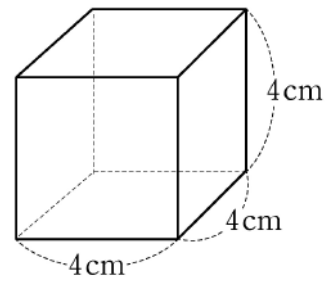
- ① 10권 ② 20권 ③ 30권 ④ 40권

17. 그림의 직육면체에서 색칠한 면 \square 와 수직인 면이 아닌 것은?



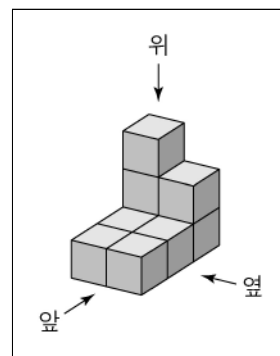
- ① 면 ㉠㉡㉢ ② 면 ㉠㉣㉥
 ③ 면 ㉡㉢㉣ ④ 면 ㉡㉤㉥

18. 다음 정육면체의 부피는?



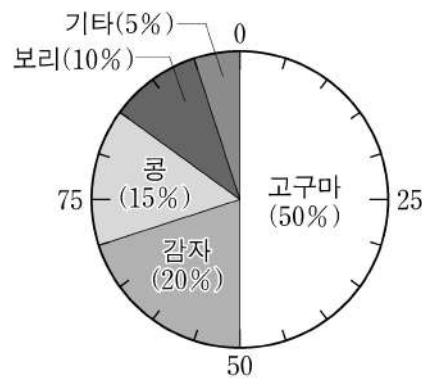
- ① 16 cm^3 ② 32 cm^3 ③ 48 cm^3 ④ 64 cm^3

19. 쌓기나무 9개를 그림과 같이 쌓았을 때, 위에서 본 모양은?



- ① ②
 ③ ④

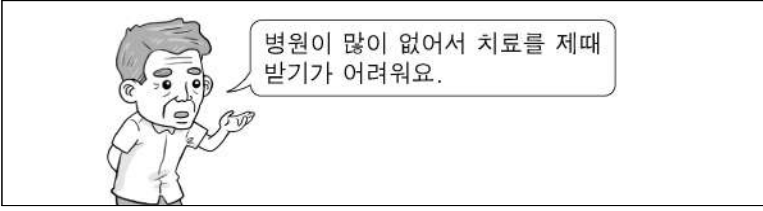
20. 다음은 어느 지역의 식량작물 생산량을 조사하여 나타낸 원그래프이다. 가장 많이 생산된 작물은?



- ① 콩 ② 감자
 ③ 보리 ④ 고구마

제 1 교시 사회

1. 다음에 해당하는 촌락의 문제는?



- ① 환경 오염 ② 소득 감소
- ③ 교통 혼잡 ④ 의료 시설 부족

2. 생활에 필요한 것을 자연에서 얻는 생산 활동은?

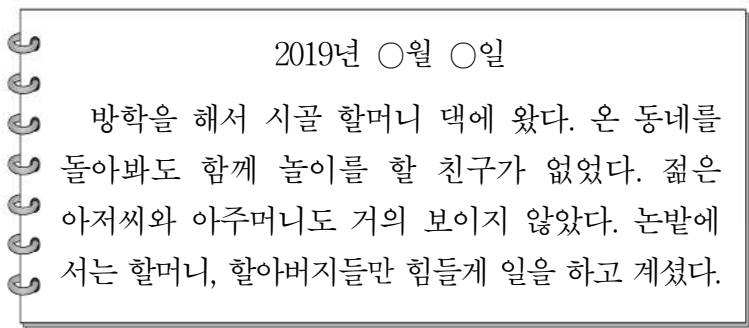
- ① 휴대전화를 만든다.
- ② 강에서 물고기를 잡는다.
- ③ 이삿짐을 화물차로 옮긴다.
- ④ 공장에서 학용품을 만든다.

3. 그림 내용에 해당하는 민주 선거의 원칙은?



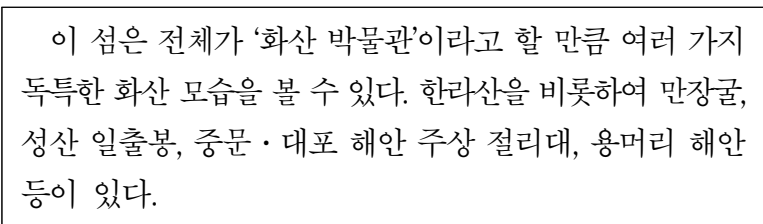
- ① 보통 선거
- ② 비밀 선거
- ③ 직접 선거
- ④ 평등 선거

4. 다음 일기에 나타난 농촌 사회의 문제는?



- ① 고령화 ② 성차별
- ③ 인종 차별 ④ 환경 오염

5. 다음에서 설명하는 곳은?



- ① 독도 ② 강화도 ③ 울릉도 ④ 제주도

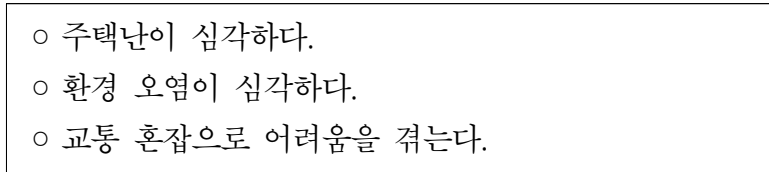
6. 다음 설명에 해당하는 것은?



- 장난감, 컴퓨터 게임, 학용품 등 다양한 분야에서 이용된다.
- 대표적인 예는 '뽀로로', '타요 버스' 등이 있다.

- ① 축산업 ② 조선업
- ③ 양봉업 ④ 캐릭터 산업

7. 대도시에서 다음과 같은 문제점이 생겨나는 원인으로 가장 적절한 것은?



- ① 인구 집중 ② 소득 증대
- ③ 일자리 부족 ④ 미세 먼지 감소

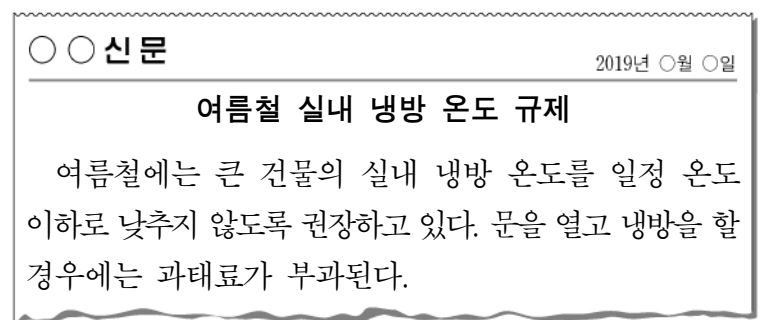
8. 다음에서 설명하는 에너지원은?



- 빛으로 에너지를 생산한다.
- 자연에 무한히 있는 에너지이다.

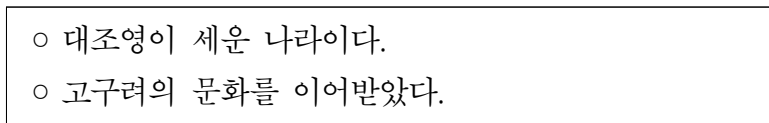
- ① 석유 ② 석탄 ③ 태양광 ④ 천연가스

9. 다음 노력을 통해 해결하고자 하는 것은?



- ① 소음 공해 ② 빈부 격차
- ③ 노사 갈등 ④ 에너지 부족

10. 다음에서 설명하는 나라는?



- ① 백제 ② 신라 ③ 발해 ④ 고조선

11. 다음은 어느 나라의 문화유산인가?



- 신비한 푸른빛의 아름다움을 지닌다.
- 표면에 그림을 그려서 파낸 자리에 다른 색의 흙을 메우고 유약을 발라 구웠다.

- ① 발해 ② 백제 ③ 고려 ④ 통일신라

12. 다음에 해당하는 것은?

- 세종대왕이 만들어 반포하였다.
- 백성을 가르치는 바른 소리라는 뜻이 담겨 있다.

- ① 훈민정음 ② 삼국사기
③ 동의보감 ④ 경국대전

13. 다음에 해당하는 조선 시대의 서민 문화는?

- 소리꾼이 긴 이야기를 노래로 부르면서 몸짓과 말을 섞어 가며 공연하였다.
- 소리꾼이 즉흥적으로 내용을 더하거나 뺄 수 있었다.

- ① 민화 ② 판소리 ③ 풍속화 ④ 한글 소설

14. 다음 내용에 해당하는 사건은?

- 농민들이 폭정에 저항하여 봉기하였다.
- 전봉준이 농민군의 지도자로서 봉기를 이끌었다.

- ① 임오군란 ② 갑신정변
③ 갑오개혁 ④ 동학 농민 운동

15. 다음 내용이 설명하는 것은?

- 1960년 3월 15일에 실시된 부정 선거에 항의하는 수많은 학생과 시민들이 대규모 시위를 벌였다.
- 민주주의를 억압한 독재 정권에 맞서 학생을 비롯한 시민들이 스스로의 힘으로 민주주의를 지켜 낸 사건이다.

- ① 3.1 운동 ② 4.19 혁명
③ 6.25 전쟁 ④ 8.15 광복

16. 다음에서 설명하는 인물은?



- 1932년 4월, 홍커우 공원에서 단상을 향해 폭탄을 던졌다.
- 일본군 사령관을 비롯한 여러 일본 군인들이 죽거나 다쳤다.

- ① 유관순 ② 정약용 ③ 윤봉길 ④ 이순신

17. 다음 설명에 해당하는 기관은?

- 국가 안에서 일어나는 일을 법에 따라 재판한다.
- 재판에 관해서 다른 기관의 간섭을 받지 않는다.

- ① 국회 ② 법원 ③ 정부 ④ 경찰

18. 다음 설명에 해당하는 우리의 이웃 나라는?

- 수도는 베이징이다.
- 만리장성, 자금성 등이 있다.
- 전통 연극인 경극과 무술인 우슈가 유명하다.

- ① 중국 ② 일본 ③ 영국 ④ 러시아

19. 그림을 통하여 알 수 있는 정보 사회의 문제로 가장 적절한 것은?



- ① 스마트폰 중독
② 인터넷으로 빠른 정보 획득
③ 통신망 서비스로 편리하게 소통
④ 상황 관촬기(CCTV)로 인한 개인 정보 침해

20. 편지에서 민서가 여행하고 있는 나라는?

수현이에게
수현아, 나는 지금 가족과 함께 아프리카 여행 중이야.
이곳은 피라미드와 나일강으로 유명한 나라야.
내일은 수도인 카이로에 가 보려고 해,
다음에는 너랑 같이 오면 좋겠어, 그럼 안녕.

2019년 ○월 ○일
민서가

- ① 미국 ② 중국 ③ 이집트 ④ 이탈리아

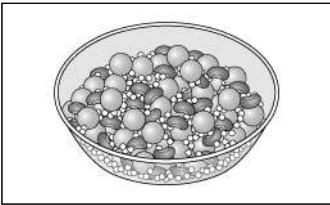
제 ② 교시 과 학

1. 다음 중 ㉠에 알맞은 말은?

식물의 (㉠)은/는 씨가 싹 트고 자라서 꽃을 피운 다음에 열매를 맺어 다시 씨를 만들고 죽기까지의 과정이다.

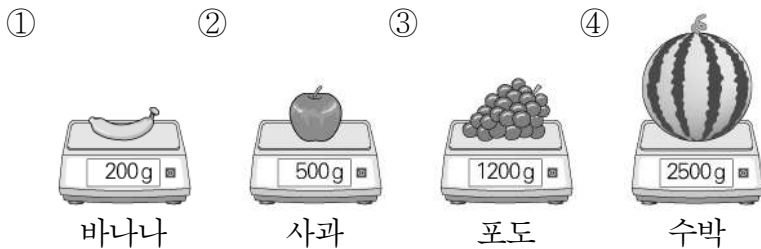
- | | |
|---------|---------|
| ① 광합성 | ② 한살이 |
| ③ 증산 작용 | ④ 지지 작용 |

2. 다음 중 콩, 팥, 좁쌀이 섞여 있는 혼합물에서 좁쌀을 분리할 때 사용할 도구로 가장 적절한 것은?



- ① 체
② 자석
③ 유리 막대
④ 증발 접시

3. 그림은 동일한 저울로 여러 열매의 무게를 측정한 것이다. 가장 무거운 것은?



4. 다음 중 지구에 대한 설명으로 옳은 것은?

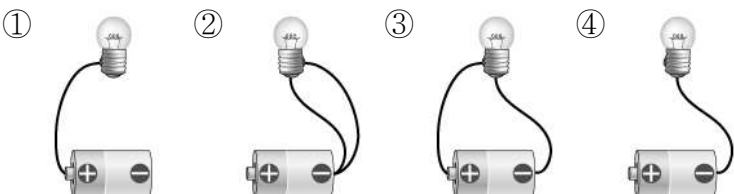
- | | |
|---------------|---------------|
| ① 네모난 모양이다. | ② 물과 공기가 있다. |
| ③ 생물이 살 수 없다. | ④ 달보다 크기가 작다. |

5. 그림을 보고 알 수 있는 꽃의 기본 구조가 아닌 것은?



- ① 꽃잎
② 뿌리
③ 수술
④ 암술

6. 다음 중 전구에 불이 켜지는 것은?

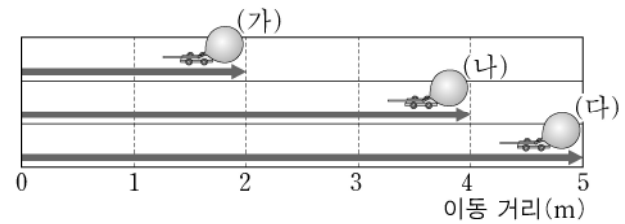


7. 그림의 온도계를 보고 알 수 있는 방 안의 온도는?



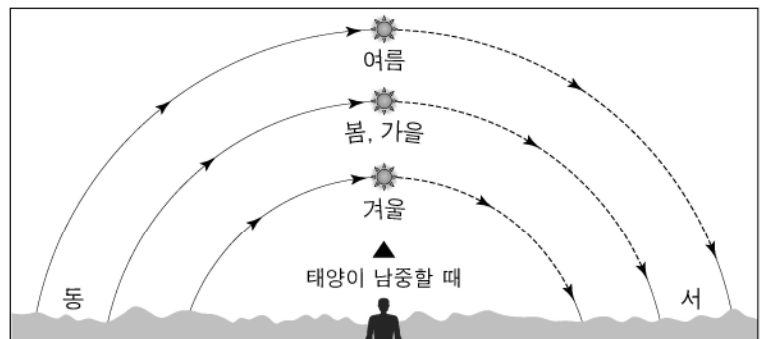
- ① 10°C ② 20°C ③ 30°C ④ 40°C

8. 그림은 같은 시간 동안 풍선 자동차가 이동한 거리를 나타낸 것이다. (가)~(다) 중 가장 느린 것은?



- ① (가) ② (나) ③ (다) ④ 모두 같다.

9. 그림은 우리나라의 계절에 따른 태양의 이동 경로를 나타낸 것이다. 태양의 남중 고도가 가장 높은 계절의 특징으로 옳은 것은?

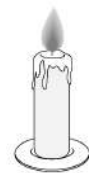


- ① 낮과 밤의 길이가 같다.
② 낮의 길이가 밤의 길이보다 길다.
③ 사계절 중 평균기온이 가장 낮다.
④ 기온이 영하로 떨어지고 눈이 온다.

10. 다음 중 스스로 양분을 만들지 못하고 식물을 먹이로 하여 살아가는 소비자는?

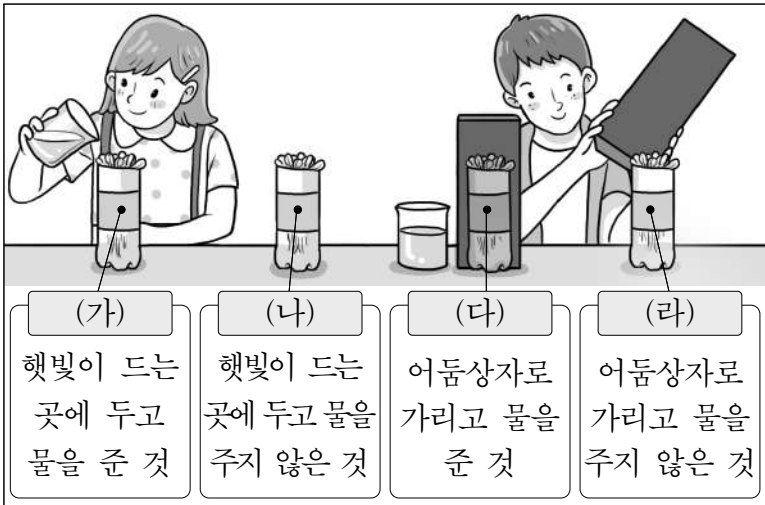
- ① 벼 ② 보리 ③ 메뚜기 ④ 옥수수

11. 그림과 같이 물질이 탈 때 필요한 조건이 아닌 것은?



- ① 물
② 산소
③ 탈 물질
④ 발화점 이상의 온도

12. 그림과 같이 햇빛과 물이 식물이 자라는 데 미치는 영향을 알아보기 위해 콩나물이 들어 있는 페트병 4개를 준비하여 실험하였다.



일주일 후 관찰했을 때 콩나물 떡잎이 진한 초록색으로 변하고 줄기가 가장 굵게 자란 것은?

- ① (가) ② (나) ③ (다) ④ (라)

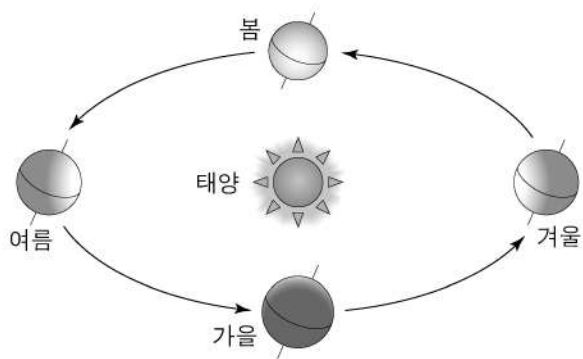
13. 다음 중 이산화 탄소에 대한 설명으로 옳은 것은?

- ① 파란색이다.
 ② 식초 냄새가 난다.
 ③ 다른 물질을 잘 타게 돕는다.
 ④ 사람이 숨을 내쉴 때 나오는 기체 중 하나이다.

14. 다음 중 소금을 물에 녹일 때 더 이상 녹지 않고 남아 있는 소금을 녹이는 방법으로 가장 적절한 것은?

- ① 그대로 둔다. ② 소금물을 열린다.
 ③ 소금을 더 넣는다. ④ 물을 더 넣고 젓는다.

15. 그림과 관련된 다음 설명에서 ㉠에 공통으로 들어갈 말은?



- 지구가 태양을 중심으로 하여 1년에 한 바퀴씩 도는 것을 지구의 (㉠)이라고 한다.
 ○ 지구의 (㉠) 때문에 계절에 따라 보이는 별자리가 달라진다.

- ① 남극 ② 북극 ③ 공전 ④ 자전

16. 표는 태양에서 지구까지의 거리를 1이라고 보았을 때, 태양에서 행성까지의 상대적인 거리를 나타낸 것이다. 태양에서 거리가 가장 가까운 행성은?

행성	수성	금성	지구	화성
상대적인 거리	0.4	0.7	1	1.5

- ① 수성 ② 금성 ③ 지구 ④ 화성

17. 다음 중 우리 생활에서 산과 염기의 성질을 이용한 예로 적절한 것은?

- ① 열이 날 때 찬 수건을 덮는다.
 ② 국이 싱거울 때 소금을 넣는다.
 ③ 설탕을 물에 녹일 때 빨리 젓는다.
 ④ 산성화된 밭에 염기성인 석회를 뿌린다.

18. 다음 중 ㉠에 알맞은 용어는?

우리가 먹은 음식을 잘게 쪼개어 몸에 흡수될 수 있는 형태로 만드는 과정을 (㉠)(이)라고 한다.

- ① 소화 ② 순환 ③ 배설 ④ 호흡

19. 그림과 같이 신문 가까이에 돋보기를 대고 글자를 보았을 때 글자의 모습은?



- ① 글자가 거꾸로 보인다.
 ② 글자가 더 크게 보인다.
 ③ 글자가 더 작게 보인다.
 ④ 글자가 투명해져서 안 보인다.

20. 다음 중 여름철 낮에 모래가 바닷물보다 더 뜨거운 이유로 가장 적절한 것은?



- ① 바람이 모래를 식혀서
 ② 모래가 바닷물을 차갑게 만들어서
 ③ 바닷물이 모래를 뜨겁게 만들어서
 ④ 모래가 바닷물보다 빨리 뜨거워져서


제 ③ 교시 도 덕

1. 다음 설명에 가장 알맞은 것은?

- 잘못된 행동을 깨달음
- 똑같은 잘못을 반복하지 않기 위함

- ① 소심 ② 반성 ③ 욕심 ④ 질투

2. 다음에서 협동하는 모습으로 가장 알맞은 것은?



3. 환경 보호를 위한 일로 옳은 것은?

- ① 재활용품을 사용한다.
- ② 쓰레기를 함부로 버린다.
- ③ 일회용품을 많이 사용한다.
- ④ 양치질을 하면서 물을 계속 틀어 놓는다.

4. 정직을 실천하는 모습으로 알맞은 것은?

- ① 경기 규칙을 어겼는데 아니라고 우긴다.
- ② 숙제를 하면서 친구 것을 베껴서 제출한다.
- ③ 자신의 잘못을 선생님께 사실대로 말씀드린다.
- ④ 물건을 사고 더 받은 거스름돈을 모르는 척 가져간다.

5. 법과 규칙을 지키는 모습이 아닌 것은?

- ① 남의 물건을 훔친다.
- ② 무단횡단을 하지 않는다.
- ③ 다른 친구를 때리거나 따돌리지 않는다.
- ④ 고속버스에 탔을 때 안전띠를 착용한다.

6. 인터넷을 이용할 때 지켜야 할 예절로 가장 알맞은 것은?

- ① 거짓 정보를 자료실에 올린다.
- ② 불법으로 음악을 내려 받는다.
- ③ 대화방에서 상대방을 비방한다.
- ④ 바르고 고운 말로 댓글을 쓴다.

7. 공익을 위해 우리가 할 수 있는 일로 알맞은 것은?

- ① 공원의 꽃을 꺾는다.
- ② 식당에서 뛰어다닌다.
- ③ 버스 안에서 큰 소리로 대화한다.
- ④ 함께 쓰는 물건을 소중히 다룬다.

8. 친구와 다투어 화가 났을 때의 행동으로 가장 바람직한 것은?

- ① 폭력적 행동을 한다.
- ② 친구의 말을 무시한다.
- ③ 다른 친구와 함께 따돌린다.
- ④ 친구의 입장에서 한 번 더 생각한다.

9. 책임을 다하는 행동은?

- ① 준비물을 스스로 챙긴다.
- ② 청소를 동생에게 미룬다.
- ③ 할 일을 미루고 게임만 한다.
- ④ 힘들고 어려운 일은 친구에게 미룬다.

10. 참된 아름다움을 실천하는 모습은?

- ① 이유 없이 남을 욕한다.
- ② 내 이익을 앞세워 행동한다.
- ③ 예의 바르고 친절할 자세를 갖춘다.
- ④ 어려움에 처한 사람을 못 본 척한다.

11. 다음 설명에 해당하는 것은?

- 사람으로서 누려야 할 당연한 권리
- 서로 다름을 이해하고 존중하기
- 피부색이 다른 친구 차별하지 않기

- ① 효도 ② 질서
- ③ 정직 ④ 인권

12. 다음 내용과 관련 있는 덕목은?

- 웃어른께 인사하기
- 웃어른께 자리 양보하기
- 웃어른께 높임말을 사용하기

- ① 차별 ② 공경
- ③ 우정 ④ 검소

13. 절제를 실천하는 모습으로 가장 바람직한 것은?

- ① 실수한 친구에게 화를 낸다.
- ② 필요 없는 물건은 사지 않는다.
- ③ 게임을 더 하고 싶으면 마음껏 한다.
- ④ 배탈이 날 정도로 음식을 많이 먹는다.

14. 갈등을 해결하는 가장 바람직한 방법은?

- ① 절대로 양보하지 않는다.
- ② 내가 하고 싶은 말만 한다.
- ③ 상대방의 말을 존중하며 듣는다.
- ④ 상대방에게 내가 원하는 대로 따르라고 강요한다.

15. 다음 설명에 해당하는 것은?

- 자기 자신을 자랑스럽게 여기는 마음이다.

- ① 이기심 ② 시기심
- ③ 자긍심 ④ 호기심

16. 남한과 북한이 평화 통일을 이루기 위해 해야 할 일로 바람직하지 않은 것은?

- ① 서로 대화한다.
- ② 서로 협력한다.
- ③ 필요한 제도와 기구를 만든다.
- ④ 다른 나라의 도움에만 의존한다.

17. 다음의 단체들이 공통적으로 실천하는 것은?

- 유니세프 ○ 굿네이버스 ○ 월드비전

- ① 분쟁 ② 봉사
- ③ 통일 ④ 폭력

18. 꿈을 이루기 위해 실천해야 할 일로 옳은 것만을 <보기>에서 모두 고른 것은?

- <보기>
- ㄱ. 노력하지도 않고 포기한다.
 - ㄴ. 나의 소질을 꾸준히 계발한다.
 - ㄷ. 나도 할 수 있다는 자신감을 갖는다.

- ① ㄱ, ㄴ ② ㄱ, ㄷ
- ③ ㄴ, ㄷ ④ ㄱ, ㄴ, ㄷ

19. 다음 그림과 가장 관련 있는 덕목은?



- ① 배려 ② 편견
- ③ 배신 ④ 절약

20. '국경 없는 의사회'가 실천하는 것은?

- ① 인류애 ② 성차별
- ③ 국제결혼 ④ 우주 개발