

제 1 교시

국 어

수험번호 ( )

성 명 ( )

※ 다음 물음에 대한 가장 옳은 답을 하나만 골라, OMR 답안지에 정확히 표기하시오.

1. 다음 표준 발음법 규정이 적용되지 않는 것은?

제17항 받침 ‘ㄷ, ㅌ’이 조사나 접미사의 모음 ‘ㅣ’와 결합되는 경우에는, [ㅈ, ㅊ]으로 바꾸어서 뒤 음절 첫소리로 옮겨 발음한다.

- ① 굳이 ② 붙이다 ③ 밭으로 ④ 가을걷이

2. 다음 두 조건을 모두 만족하는 단어는?

- 어근과 접사의 결합으로 이루어진 단어
○ 접미사가 붙어서 어근의 품사가 바뀐 단어

- ① 지우개 ② 돌다리 ③ 풋사과 ④ 나뭇잎

3. 문장 성분이 자연스럽게 호응하는 것은?

- ① 우리는 각자의 꿈을 결코 이루어 낼 거야.
② 비록 힘들지라도 부디 용기를 잃지 말아라.
③ 너희는 이번 경기에서 절대로 승리해야 해.
④ 나는 오늘 학교 축제에서 노래와 춤을 추었어.

[4~7] 다음 글을 읽고 물음에 답하시오.

(가) 여승(女僧)은 합장(合掌)하고 절을 했다
㉠ 가지취의 내음새가 났다
쓸쓸한 낮이 넷날같이 늙었다
나는 불경(佛經)처럼 서러워졌다
평안도(平安道)의 어늬 산 깊은 금덥판
나는 파리한 여인(女人)에게서 옥수수를 샀다
여인(女人)은 나 어린 딸아이를 따리며 ㉡ 가을 밤같이 차게 울었다

섭벌같이 나아간 지아비 기다려 십 년(十年)이 갔다
지아비는 돌아오지 않고
어린 딸은 도라지꽃이 좋아 돌무덤으로 갔다
산(山)땡도 설게 울은 슬픈 날이 있었다
산(山)절의 마당귀에 여인(女人)의 머리오리가 눈물방울과 같이 떨어진 날이 있었다

- 백석, 「여승」 -

(나) 진주(晋州) 장터 생어물(魚物)전에는
바닷물이 깔리는 해 다 진 어스름을,
울엄매의 장사 끝에 남은 고기 몇 마리의
빛 발(發)하는 눈깔들이 속절없이
은전(銀錢)만큼 손 안 닿는 한(恨)이던가
울엄매야 울엄매,
별밭은 또 그리 멀리
우리 오누이의 머리 맞댄 골방 안 되어
손 시리게 떨던가 ㉢ 손 시리게 떨던가,
진주(晋州) 남강(南江) 맑다 해도
오명 가명
신새벽이나 밤빛에 보는 것을,
울엄매의 마음은 어떠했을까,
㉣ 달빛 받은 용기전의 용기들같이
말없이 글썽이고 반짝이던 것인가.

- 박재삼, 「추억에서」 -

4. (가), (나)의 공통적 특징으로 적절한 것은?

- ① 회상적 어조로 표현되었다.
② 시간의 순서에 따라 전개되었다.
③ 시적 대상에 대한 원망이 나타나 있다.
④ 시적 상황에 대한 극복 의지가 드러났다.

5. (가)에서 ‘여인’의 삶이 드러나지 않는 것은?

- ① 어린 딸의 죽음 ② 금덥판에서의 행상
③ 산(山)절을 둘러보는 나 ④ 돌아오지 않는 지아비

6. (나)에 대한 독자의 반응으로 적절하지 않은 것은?

- ① 어머니는 팔다 남은 생선을 보며 안타까워하는군.
② 오누이가 차가운 골방에서 어머니를 기다리고 있군.
③ 오누이는 다정하게 별을 바라보며 행복해 하고 있군.
④ 어머니는 자식 걱정을 하며 늦은 밤길을 걸어 왔겠군.

7. ㉠~㉣ 중 후각적 심상으로 표현된 것은?

- ① ㉠ ② ㉡ ③ ㉢ ④ ㉣

[8~11] 다음 글을 읽고 물음에 답하시오.

<앞부분 줄거리: 허생이 부자 변씨를 찾아가 일 만 냥을 빌려달라고 하니, 변씨는 흔쾌히 돈을 빌려준다.>

허생은 감사하다는 인사도 없이 가 버렸다. 변씨 집의 자체와 손들이 허생을 보니 거지였다. 실씨의 술이 빠져 너털너털하고, 각신의 뒷굽이 자빠졌으며, 쭈그러진 갖에 허름한 도포를 걸치고, 코에서 맑은 콧물이 흘렀다. 허생이 나가자, 모두들 어리둥절해서 물었다.

“저이를 아시나요?”

“모르지.”

“아니, 이제 하루 아침에, ㉠ 평생 누군지도 알지 못하는 사람에게 만 냥을 그냥 내던져 버리고 성명도 묻지 않으시다니, 대체 무슨 영문인가요?”

변씨가 말하는 것이었다.

“이건 너희들이 알 바 아니다. 대체로 남에게 무엇을 빌리러 오는 사람은 으레 자기 뜻을 대단히 선전하고, 신용을 자랑하면서도 비굴한 빛이 얼굴에 나타나고, 말을 중언부언하게 마련이다. 그런데 저 객은 형색은 허술하지만, 말이 간단하고, 눈을 오만하게 뜨며, 얼굴에 부끄러운 기색이 없는 것으로 보아, 재물이 없어도 스스로 만족할 수 있는 사람이다. ㉡ 그 사람이 해 보겠다는 일이 작은 일이 아닐 것인데, 나 또한 그를 시험해 보려는 것이다. 안 주면 모르되, 이왕 만 냥을 주는 바에 성명은 물어 무엇을 하겠느냐?”

㉢ 허생은 만 냥을 입수하자, 다시 자기 집에 들르지도 않고 바로 안성(安城)으로 내려갔다. 안성은 경기도, 충청도 사람들이 마주치는 곳이고, 삼남(三南)의 길목이기 때문이다. 거기서 대추, 밤, 감, 배며 석류, 굴, 유자 등속의 과일을 모조리 두 배의 값으로 사들였다. 허생이 과일을 몽땅 쏟았기 때문에 온 나라가 잔치나 제사를 못 지낼 형편에 이르렀다. 얼마 안 가서, 허생에게 두 배의 값으로 과일을 팔았던 상인들이 도리어 열 배의 값을 주고 사 가게 되었다. 허생은 길게 한숨을 내쉬었다. ㉣ “만 냥으로 온갖 과일의 값을 좌우했으니, 우리나라의 형편을 알 만하구나.”

그는 다시 칼, 호미, 포목 따위를 가지고 제주도(濟州島)에 건너가서 말총을 죄다 사들이면서 말했다.

“몇 해 지나면 나라 안의 사람들이 머리를 싸매지 못할 것이다.”

허생이 이렇게 말하고 얼마 안 가서 과연 망건값이 열 배로 뛰어올랐다.

- 박지원, 「허생전」 -

8. 윗글에 대한 설명으로 알맞은 것은?

- ① 허생과 변씨의 갈등이 드러난다.
- ② 허생은 지배 계층의 전형적 인물이다.
- ③ 허생에 대한 심리 묘사가 두드러진다.
- ④ 허생의 행적을 중심으로 사건이 전개된다.

9. 윗글에서 알 수 있는 사회·문화적 상황이 아닌 것은?

- ① 해외 무역이 활발하게 이루어졌다.
- ② 과일은 제사에 꼭 필요한 물품이었다.
- ③ 안성은 많은 물자가 모이는 곳이었다.
- ④ 제주도에서 나는 말총으로 망건을 만들어 썼다.

10. ㉠~㉣ 중 당시의 취약한 경제 구조를 지적한 부분은?

- ① ㉠                      ② ㉡                      ③ ㉢                      ④ ㉣

11. 변씨가 허생을 판단한 기준과 관계 깊은 속담은?

- ① 개밥에 도토리                      ② 빛 좋은 개살구
- ③ 뚝배기보다 장맛                      ④ 밀 빠진 독에 물 붓기

[12~14] 다음 글을 읽고 물음에 답하시오.

·유·익·훈 ·이 :세 가·짓 :벌·이오 :해·로운 ·이 :세 가·짓 :벌·이니 直·덕·훈 ·이·를 :벌·호·며 :신·실·훈 ·이·를 :벌·호·며 들:온 ·것 한 ·이·를 :벌·호·면 :유·익·훈 ·고 :거·동·만 니·근 ·이·를 :벌·호·며 아:당·호·기 잘 ·호·는 ·이·를 :벌·호·며 ㉠:말·습·만 니·근 ·이·를 :벌·호·면 해·로·온 이·라.

<현대어 풀이> 유익한 벗이 셋이고, 해로운 벗이 셋이니, 정직한 이를 벗하며, 진실한 이를 벗하며, 건문이 많은 이를 벗하면 유익하고, 행동만 익은 이를 벗하며, 아침하기를 잘하는 이를 벗하며, 말만 익은 이를 벗하면 해로우니라.

\*니·근 ·이:익숙한 이.

- 「소학 언해(小學諺解)」 -

12. 윗글에 나타난 중세국어의 모습으로 알맞지 않은 것은?

- ① 방점으로 성조를 나타내었다.
- ② 명사형 어미 ‘-기’가 사용되었다.
- ③ 끊어적기 방식만 사용되고 있다.
- ④ 현재 사용되지 않는 모음이 사용되었다.

13. 윗글에 제시된 유익한 벗이 아닌 것은?

- ① 마음이 곧고 바른 친구
- ② 착실하여 믿음을 주는 친구
- ③ 들은 것이 많아 배울 것이 있는 친구
- ④ 남의 기분을 상하지 않게 말하는 친구

14. ㉠에게 조언해 줄 말로 가장 적절한 것은?

- ① 말만 앞세우지 말고 실천해야 해.
- ② 상대방의 말을 끝까지 들어야 해.
- ③ 상대방에게 예의를 갖추어 말해야 해.
- ④ 다른 사람을 비방하는 말은 삼가야 해.

[15~18] 다음 글을 읽고 물음에 답하시오.

내겐 장인님이 감히 큰소리할 계제가 못 된다.  
 뒷생각은 못 하고 뺨 한 개를 딱 때려 놓고는 장인님은  
 무색해서 덤덤이 쓴 침만 삼킨다. 난 그 속을 펴 잘 안다. 조  
 금 있으면 갈도 꺾어야 하고, 모도 내야 하고, 한창 바쁜 때  
 인데 나 일 안 하고 우리 집으로 그냥 가면 고만이니까. 작  
 년 이맘때도 트집을 줌 하니까 늦잠 잔다고 돌맹이를 집어  
 던져서 자는 놈의 발목을 빼게 해 놨다. 사날씩이나 건승  
 ‘꿈, 꿈.’ 앓았더니 종당에는 거반 울상이 되지 않았는가…….  
 “㉠ 애, 그만 일어나 일 좀 해라. 그래야 올 갈에 벼 잘  
 되면 너 장가들지 않니?”  
 그래 귀가 번쩍 띠여서 그 날로 일어나서 남이 이틀 품  
 들일 눈을 혼자 삶어 놓으니까 장인님도 눈썹이 커다랗게  
 놀랐다. 그럼 정말로 가을에 와서 혼인을 시켜 줘야 온 경  
 오가 옳지 않겠나. 벼섬을 척척 들여쌓아도 다른 소리는 없  
 고 물동이를 이고 들어오는 점순이를 담배통으로 가르치며,  
 “이 자식아, 미처 커야지. 조절 데리구 무슨 혼인을 한다  
 구 그러니, 온!”  
 하고 남 낫짝만 붉게 해 주고 고만이다. 골김에 그저 이놈  
 의 장인님 하고 댕돌에다 메꿨고 우리 고향으로 내뺄까 하  
 다가 꺾꺾 참고 말았다.  
 참말이지 난 이 꼴 하고는 집으로 차마 못 간다. 장가를  
 들러 갔다가 오작 못났어야 그대로 쫓겨왔느냐고 손가락질  
 을 받을 테니까…….  
 논둑에서 벌떡 일어나 한풀 죽은 장인님 앞으로 다가스며,  
 “㉡ 난 갈 테야유. 그 동안 사경 쳐 내슈, 뉘.”  
 “너, 사위로 왔지 어디 머슴 살러 왔니?”  
 “그러면 얼쩡 성렐 해 줘야 안 하지유. ㉢ 밤낫 부러만  
 먹구 해 준다, 해 준다…….”  
 “글쎄, 내가 안 하는 거냐, 그년이 안 크니까…….”  
 하고 어름어름 담배만 담으면서 늘 하는 소리를 또 늘어놓는다.  
 이렇게 따져 나가면 언제든지 늘 나만 밀지고 만다. 이번  
 엔 안 된다 하고 대뜸 구장님한테로 단판 가자고 소맷자락  
 을 내끌었다.  
 “㉣ 아, 이 자식이 왜 이래, 어른을.”  
 안 간다구 뺨디디고 이렇게 호령은 제 맘대로 하지만 장  
 인님 제가 내 기운은 못 당한다. 막 부러먹고 딸은 안 주  
 고, 게다 땅땅 치는 건 다 뭐야…….  
 - 김유정, 「봄봄」 -

15. ‘나’의 성격으로 적절한 것은?  
 ① 영악하고 교활하다.            ② 어수룩하고 우둔하다.  
 ③ 차분하고 신중하다.            ④ 고분고분하고 사교적이다.
16. 윗글에서 ‘장인’이 혼례를 시키지 않는 표면적 이유는?  
 ① ‘나’가 가난하기 때문에  
 ② 점순이가 미처 크지 않아서  
 ③ 점순이가 ‘나’를 좋아하지 않아서  
 ④ ‘나’를 오래도록 머슴으로 부리려고

17. 윗글을 <보기>와 같이 각색했을 때, ㉠에 들어갈 지시문  
 으로 적절한 것은?

<보기>

나 : (벌떡 일어나) 난 갈 테야유. 그 동안 사경 쳐 내슈.  
 장인: 너, 사위로 왔지 어디 머슴 살러 왔니?  
 나 : (통명스러운 목소리로) 얼쩡 성렐 해 줘야지유.  
       해 준다, 해준다면서 밤낫 부러만 먹구…….  
 장인: (능글맞게 웃으며) 글쎄, 내가 안 하는 거냐, 그년이  
       안 크니까…….  
 나 : ( ㉠ ) 그런 소릴 하려면 당장 구장님한테 가지유.  
 장인: (끌려가지 않으려고 버티며) 아, 이 자식이 왜 이래.

- ① 기지개를 켜며                    ② 머리를 긁적거리며  
 ③ 장인의 소매를 잡아끌며        ④ 바닥에 털썩 주저앉으며
18. ㉠~㉣ 중 자신의 속뜻과 다르게 말한 것은?  
 ① ㉠                                  ② ㉡                                  ③ ㉢                                  ④ ㉣
19. 밑줄 친 부분을 고쳐 쓴 것으로 알맞지 않은 것은?

**물로켓 만드는 방법**

ㄱ. 물로켓의 본체는 두 개의 페트병을 잘라서 만들음.  
 ㄴ. 페트병의 거칠은 면을 다듬어 테이프로 고정함.  
 ㄷ. 상단에 고깔을 씌우고, 하단에 날개를 부쳐 고정함.  
 ㄹ. 시험 발사하여 목표물에 정확히 날라가는 것을 확인함.

- ① 만들음 → 만들                    ② 거칠은 → 거친  
 ③ 부쳐 → 붙여                        ④ 날라가는 → 날아가는
20. ‘수질 보호’에 대한 글쓰기를 준비할 때, ㉠에 들어갈 내용  
 으로 적절하지 않은 것은?

I. 서론  
 - 오염된 물로 인한 사고 발생  
 - 수질 보호의 필요성

II. 본론  
 1. 수질 오염의 원인과 실태  
    - 수질 오염의 원인  
    - 수질 오염의 실태  
 2. 수질 오염에 대한 대책  
    - 가정 차원: (                                  ㉠                                  )  
    - 정부 차원: 오염 물질 방류 단속, 관련 사업장 감독

III. 결론  
 - 수질 보호를 위한 관심과 실천의 필요성 강조

- ① 폐식용유 재활용하기            ② 빨랫감 모아 세탁하기  
 ③ 주방 세제 사용량 줄이기        ④ 오염 물질 관련 법규 정비

[21~22] 다음 글을 읽고 물음에 답하시오.

㉠ 한국에서는 개울가 어디를 가나 평평한 돌 위에 쪼그리고 앉아 빨래하는 여자들을 볼 수 있다. 이들은 더러운 옷을 물에 담갔다 건져 내 쥐어짠 다음, 평평한 돌 위에 올려놓고 납작한 방망이로 두드린다. 이에 앞서 나뭇재로 만든 켓물에 빨래를 흠뻑 적시기도 한다. ㉡ 빨래가 끝나면 홍두깨에 빨래를 잡아 놓고 곤봉 모양의 방망이로 얼마 동안 짧고 빠르게 홍두깨질을 하고, 이어서 햇볕이 쨍쨍 비칠 때 널어서 말린 다음, 쌀로 만든 풀을 살짝 먹인다. 이런 과정을 거치면 흰 무명 천도 희부연 공단처럼 눈부시게 하얀 색을 띠는데, 그 흰 빛깔을 보면서 나는 항상 산상에서 거룩하게 변모한 예수의 광채나는 옷을 두고 “그 누구도 그렇게 희게 할 수 없을 만큼 심히 희어졌다.”라고 말한 마가복음서의 구절(9장 3절)을 상기하게 된다. 이런 흰 옷, 특히 겨울에 입는 흰 솜옷 때문에 여자들은 아주 힘들고 끊임없는 노동을 하지 않으면 안 된다. ㉢ 두루마기는 빨래를 한 다음 매번 뜯었다가 다시 꿰매야 하는데, 긴 술기 중 어떤 것은 풀로 붙이기도 하지만, 그래도 대부분은 바느질을 해야 한다.

한국의 농촌 여성들은 이 밖에도 온 가족의 옷을 직접 만들고, 온갖 음식을 만들고, 무거운 공기와 절구를 사용하여 벼를 찧고, 무거운 짐보따리를 머리에 이고 장에 가며, 물을 길어 오고, 먼 거리에 있는 밭에 나가 일을 하고, 늦게 자고 일찍 일어나며, 실을 잣고 베를 짠다. 게다가 이들은 예외 없이 아이를 많이 낳는데, 아이가 세 살이 될 때까지 젖을 먹인다. ㉣ 농촌 여성들은 삶의 즐거움이 별로 없다고 말할 수 있다. 이들은 고된 가사를 며느리에게 물려줄 때까지 그저 묵묵히 일만 하는 존재에 불과하다. 그들은 서른에 벌써 쉰 살은 먹어 보이고, 마흔 살이 되면 이가 거의 빠진다. 몸단장을 해야겠다는 생각마저도 아주 이른 나이에 잊어버리고 만다.

- 이사벨라 버드 비숍, 『외국인의 눈에 비친 19세기 말의 한국』 -

21. 윗글의 내용으로 적절하지 않은 것은?

- ① 한국에서는 빨래할 때 켓물이 사용되었다.
- ② 겨울 솜옷은 다른 옷보다 쉽게 세탁할 수 있었다.
- ③ 농촌 여성들은 집안일 외에도 많은 일을 해야 했다.
- ④ 농촌 여성들은 자신의 몸단장을 생각할 겨를이 없었다.

22. 한국인의 모습에 대한 글쓴이의 감상이 드러난 것은?

- ① ㉠                      ② ㉡                      ③ ㉢                      ④ ㉣

[23~25] 다음 글을 읽고 물음에 답하시오.

활자로 된 책을 통해 정보를 얻으려면, 그것을 읽고 그 개념적 의미를 능동적으로 이해해야 한다. 그만큼 지적 긴장과 시간이 필요하고 따라서 비경제적이다. 그러나 전통적

매체에 의한 정보 전달에 치르는 대가는 충분히 보상된다. 책을 구성하고 있는 문자 기호의 의미는 영상 매체를 구성하는 기호인 이미지보다 정확할 수 있으며, 영상 매체의 기호들이 언제나 제한된 공간과 시간에 구속되어 단편적이고 순간적인 파악을 요청하는 데 반해, 하나의 책에 기록된 기호들은 공식적으로 전체적인 입장에서 포괄적으로 해석될 수 있으며, 시간의 제약 없이 반복적이면서도 반성적으로 해석될 수 있고, 따라서 그만큼 깊은 차원의 정보 전달이 가능하다. 책의 기호적 의미와 그러한 의미에 의한 정보 전달 기능은 그 성격상 어떤 상황에서도 영상 매체를 통한 정보 전달 기능으로 완전히 대체될 수 없다.

영상 매체가 지배하는 문명은 피상적이고, 피상적 문명의 의미는 공허하며, 공허한 문명은 곧 문명의 죽음을 가져오게 된다. 깊은 의미를 지닌 문명과, 인간적으로 보다 충족된 삶을 위해서 영상 매체의 완전한 지배에 저항해야 할 것이다. 아무리 영상 매체가 발달되더라도 의미 있는 문명이 살아 있는 한 인쇄 매체는 어떤 형태로든 살아남을 것이다.

그러나 우리의 문명과 삶이 공허한 것이 되지 않도록 하기 위해서 보다 더 적극적으로 없어서는 안 될 책의 기능을 의식하고, 보다 나은 책을 더 많이 창조하고, 책에 담긴 풍요롭고 깊은 가치를 발견하고 음미하는 습관을 잊지 않는 노력이 한결 더 요청된다.

- 박이문, 『영상 매체 시대의 책』 -

23. 위와 같은 글의 특성으로 알맞은 것은?

- ① 상상력을 바탕으로 한 허구의 이야기이다.
- ② 개인의 감정과 정서가 운율로 압축된 글이다.
- ③ 객관적인 정보 전달을 목적으로 하는 글이다.
- ④ 근거를 바탕으로 자신의 의견을 주장하는 글이다.

24. 윗글에 나타난 ‘책의 가치’로 알맞은 것은?

- ① 메시지를 순간적으로 파악할 수 있다.
- ② 반복적이고 반성적인 해석이 가능하다.
- ③ 책의 기호가 영상 매체의 기호보다 즉각적이다.
- ④ 짧은 시간에 의미를 이해할 수 있어 경제적이다.

25. 윗글에서 사용된 주된 내용 전개 방식으로 적절한 것은?

- ① 대상의 개념을 풀이하고 있다.
- ② 진행 과정을 순서대로 제시하고 있다.
- ③ 책이나 다른 사람의 말을 인용하고 있다.
- ④ 두 대상의 차이점을 견주어 대조하고 있다.

※ 확인사항  
답을 OMR 카드의 해당란에 정확히 표기하였는가?

제 3 교시

영어

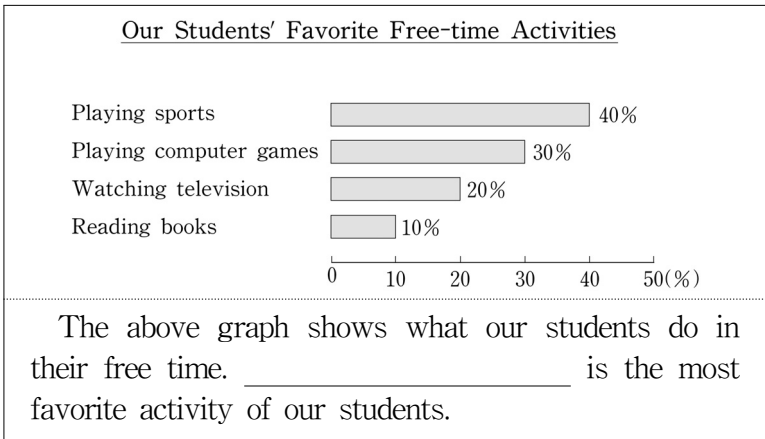
수험번호 ( )

성명 ( )

※ 다음 물음에 대한 가장 옳은 답을 하나만 골라, OMR 답안지에 정확히 표기하십시오.

[1~2] 밑줄 친 부분의 뜻으로 알맞은 것을 고르시오.

- Names on the list are shown in alphabetical order.  
① 대담      ② 명예      ③ 성공      ④ 순서
- She didn't give up her work even when she was sick.  
① 도와주다    ② 도전하다    ③ 안내하다    ④ 포기하다
- 두 단어의 의미 관계가 나머지 셋과 다른 것은?  
① safe - dangerous              ② same - equal  
③ enough - lack                  ④ beautiful - ugly
- 도표의 내용으로 보아 빈칸에 들어갈 말로 알맞은 것은?



- Playing sports                      ② Playing computer games  
③ Watching television              ④ Reading books

5. 다음 밑줄 친 속담의 뜻은?

A: I'll ride my bike to school for my health and saving money.  
B: It is to kill two birds with one stone.

- 모든 일에 조심해야 한다.
- 기회는 올 때 잡아야 한다.
- 한 번에 두 가지 이득을 얻는다.
- 부지런하면 언젠가 보상이 온다.

6. 대화에서 알 수 있는 B의 심경으로 가장 알맞은 것은?

A: What's the matter with you?  
B: I didn't do well in the speech contest.  
A: Come on! You can do better next time.

- bored      ② excited      ③ satisfied      ④ disappointed

7. 빈칸에 들어갈 말로 알맞은 것은?

Susan \_\_\_\_\_ to meet her friends right now.

- want      ② wants      ③ wanted      ④ had wanted

8. 대화가 이루어지는 장소로 가장 알맞은 것은?

A: Are these books on sale?  
B: Yes, all of these are four dollars each.  
A: Do you have books of travel?  
B: Yes, they are on the second floor.

- 서점      ② 식당      ③ 세탁소      ④ 옷가게

9. (A)에 이어질 대화의 순서로 알맞은 것은?

(A) Why don't we go swimming this Saturday?

(B) Well, I am not good at swimming.  
(C) Good. Thanks.  
(D) Don't worry. I can help you.

- (B) - (D) - (C)                      ② (C) - (D) - (B)  
③ (D) - (B) - (C)                      ④ (D) - (C) - (B)

10. 대화에서 두 사람의 관계로 알맞은 것은?

A: I'm looking forward to the school picnic.  
B: I know how you feel. But the final exam is more important.  
A: Don't worry, Mr. Lee. I'll study hard.  
B: Good. I think you are the best student in my class.

- 고객 - 직원                              ② 경찰 - 시민  
③ 학생 - 교사                              ④ 의사 - 환자

11. 다음 글 바로 뒤에 올 내용으로 가장 알맞은 것은?

I saw the film, 'Superman'. I really enjoyed the film. People said that the movie had impressive special effects. So, I wanted to see what they were. Let me tell you the effects.

- 출연 배우                                      ② 영화 제작비  
③ 영화 상영관 수                              ④ 영화 속의 특수효과

12. 다음 구인광고에서 알 수 없는 것은?

**Tour Guide**

- Good English and Japanese
- Must have a good sense of humor
- Call 82-046-326-8256

**Always Good Tour Co.**

- 월급      ② 연락처      ③ 회사명      ④ 자격 요건

[13~14] 대화의 빈칸에 들어갈 말로 알맞은 것을 고르시오.

13.

A: What do you want to be in the future?  
B: I want to be a musician.  
A: \_\_\_\_\_

- ① I am glad you like me.
- ② It is fun to take pictures.
- ③ I hope your dreams come true.
- ④ I visited my uncle's last year, too.

14.

A: King Hotel. May I help you?  
B: Yes, I'd like to speak to Bill in room 300.  
A: \_\_\_\_\_

- ① Pass me the salt, please.
- ② It took 3 days to get there.
- ③ I told you not to watch TV.
- ④ Hold on please. I'll connect you.

15. 다음 글에 나타난 글쓴이의 고민은?

My dream is to be a popular singer. But my parents become upset whenever I talk about becoming a singer. They think I should study law or science. So I am very confused.

- ① 교우 관계                      ② 용돈 부족
- ③ 진로 문제                      ④ 체중 증가

16. 글의 전체 흐름과 관계가 없는 문장은?

Eating breakfast is very important for children.  
① It makes them keep healthy and helps them learn better. ② For example, students who eat breakfast regularly do better in school than those who don't eat it.  
③ They had better drink something cold. ④ So make your children have breakfast.

17. 글을 쓴 목적으로 가장 알맞은 것은?

Dear Kevin,  
My family is going to visit the Folk Village this weekend. I want you to come and join us. Do you have time on this Saturday? Let's have a great time together. Please let me know if you can come or not.

- ① 감사            ② 격려            ③ 위로            ④ 초대

18. 빈칸에 들어갈 말로 알맞은 것은?

\_\_\_\_\_ can have many different meanings. Red means energy, war and love. Yellow means joy and happiness. Green means freshness and growth.

- ① Animal        ② Color        ③ Feeling        ④ Shape

19. Jane에 관한 내용과 일치하는 것은?

Jane isn't active. She thinks she isn't good at sports. When her friends play basketball outside, she just watches them. Her interests are reading books and playing computer games.

- ① 활동적이지 않다.              ② 운동을 잘 한다.
- ③ 친구들과 야구를 한다.        ④ 컴퓨터 게임에 관심이 없다.

20. 밑줄 친 two basic things가 가리키는 것으로 알맞은 것은?

Driving can be fun. However, most of drivers ignore two basic things when they drive. They forget to keep enough distance from the car in front, and they don't wear seat belts.

- ① 차선 지키기, 신호 지키기
- ② 안전거리 확보, 차선 지키기
- ③ 안전거리 확보, 좌석벨트 착용
- ④ 좌석벨트 착용, 규정 속도 유지

[21~22] 다음 글의 주제로 가장 알맞은 것을 고르시오.

21.

If you feel alone and don't make friends, you must change your mind. You must not wait for others to come. You must move to them. Don't be afraid of being rejected. Go and start a light conversation about the weather or hobbies. They are nicer than you think.

- ① 취미의 중요성                      ② 휴가의 즐거움
- ③ 거절하는 방법                      ④ 친구 사귀는 법

22.

Kevin is short, but he is proud that he can run fast. He knows who he is, how he looks and what he can do well. Although he sometimes experiences problems with his weakness, he doesn't accept it badly. He loves himself and takes pride in his abilities.

- ① 외모의 중요성                      ② 자신에 대한 존중감
- ③ 다양한 경험의 중요성              ④ 호기심은 문제해결의 시작

23. 다음 문장이 들어가기에 알맞은 곳은?

After we finished putting up the tent, we cooked lunch.

My friends and I went camping at a mountain last weekend. (①) Arriving there, we started to put up our tent. (②) While we were cooking, many insects gathered around us. (③) They bit and made us mad. (④)

[24~25] 다음 글을 읽고 물음에 답하십시오.

A good night's sleep is necessary to teens. \_\_\_\_\_, they can't sleep enough because of late-night homework and early morning school hours. The lack of sleep can negatively affect the mind and the body. It drops teens' memory and attention.

24. 위 글의 흐름으로 보아 빈칸에 알맞은 것은?

- ① Besides        ② However        ③ Therefore        ④ For example

25. 위 글이 청소년들에게 말하고자 하는 것은?

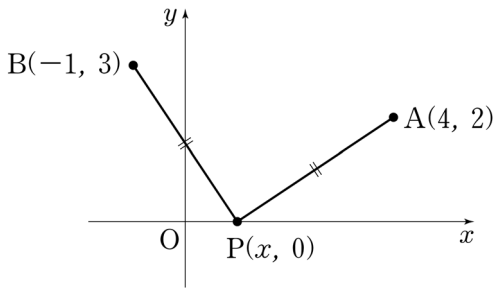
- ① 충분한 잠이 필요하다.              ② 학습 계획이 필요하다.
- ③ 아침 일찍 일어나야 한다.            ④ 학교 수업에 집중해야 한다.

※ 확인사항

답을 OMR 카드의 해당란에 정확히 표기하였는가?



11. 그림과 같이 두 점 A(4, 2), B(-1, 3)에서 같은 거리에 있고, x축 위에 있는 점 P의 좌표는?

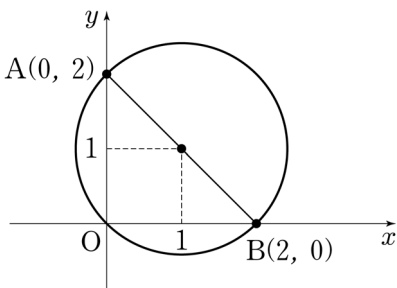


- ① (1, 0)
- ② (2, 0)
- ③ (3, 0)
- ④ (4, 0)

12. 직선  $y=x+3$ 에 수직이고, 점(2, 1)을 지나는 직선의 방정식은?

- ①  $y=2x-3$
- ②  $y=x-1$
- ③  $y=-x+3$
- ④  $y=-2x+5$

13. 그림과 같이 지름의 양 끝점 A(0, 2), B(2, 0)와 원점을 지나는 원의 방정식은?



- ①  $(x-1)^2 + (y-1)^2 = 2$
- ②  $(x+1)^2 + (y+1)^2 = 2$
- ③  $(x-1)^2 + (y-1)^2 = 4$
- ④  $(x+1)^2 + (y+1)^2 = 4$

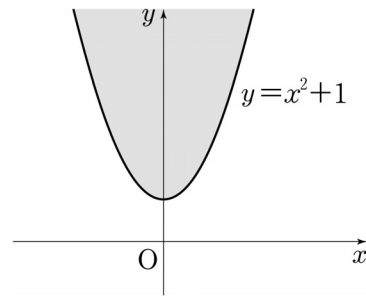
14. 함수  $f(x)=x-2$ 에 대하여 역함수  $f^{-1}(0)$ 의 값은?

- ① 1
- ② 2
- ③ 3
- ④ 4

15. 두 함수  $f(x)=2x+1$ ,  $g(x)=x^2-1$ 에 대하여 합성함수  $(f \circ g)(1)$ 의 값은?

- ① 1
- ② 2
- ③ 4
- ④ 8

16. 그림에서 어두운 부분의 영역을 부등식으로 나타낸 것은? (단, 경계선 포함)



- ①  $y \leq x^2+1$
- ②  $y \geq x^2+1$
- ③  $y < x^2+1$
- ④  $y > x^2+1$

17. 정의역이  $\{x \mid 1 \leq x \leq 2\}$ 인 이차함수  $y=2x^2-1$ 의 최댓값은 M, 최솟값은 m이다. 이 때, M+m의 값은?

- ① 4
- ② 6
- ③ 8
- ④ 10

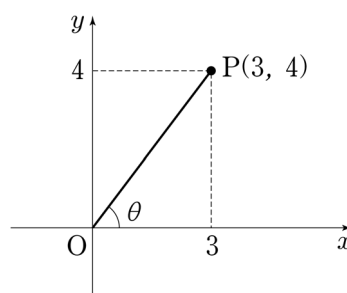
18. 함수  $y=\frac{1}{x}$ 의 그래프를 x축의 방향으로 2만큼, y축의 방향으로 1만큼 평행이동하면  $y=\frac{1}{x-a}+b$ 의 그래프가 된다. 이 때, a+b의 값은?

- ① -3
- ② -1
- ③ 1
- ④ 3

19. 반지름의 길이가 2cm, 중심각의 크기가  $\frac{\pi}{4}$ 인 부채꼴의 호의 길이는?

- ①  $\pi$  cm
- ②  $\frac{\pi}{2}$  cm
- ③  $\frac{\pi}{3}$  cm
- ④  $\frac{\pi}{4}$  cm

20. 그림에서  $\sin \theta = \frac{4}{5}$ 일 때,  $\cos \theta$ 의 값은? (단,  $0 < \theta < \frac{\pi}{2}$ )



- ①  $\frac{5}{3}$
- ②  $\frac{4}{3}$
- ③  $\frac{5}{4}$
- ④  $\frac{3}{5}$

※ 확인사항  
답을 OMR 카드의 해당란에 정확히 표기하였는가?



# 제 4 교시 사회

수험번호 ( ) 성명 ( )

※ 다음 물음에 대한 가장 옳은 답을 하나만 골라, OMR 답안지에 정확히 표기하시오.

1. 다음 내용과 관련 있는 문화권은?

- 만민평등과 유일신 신앙으로 사회 통합 달성
- 생활 규범과 법질서의 토대로 쿠란이 보편화

- ① 불교 문화권                      ② 힌두교 문화권
- ③ 이슬람교 문화권                ④ 크리스티교 문화권

2. 신항로 개척이 유럽사회에 미친 영향으로 옳지 않은 것은?

- ① 가격혁명 발생                    ② 상업혁명 발생
- ③ 식민지 확보 경쟁                ④ 수정 자본주의 등장

3. 다음 자료와 관련된 혁명의 배경으로 옳지 않은 것은?

제2조 모든 정치적 결합의 목적은 ..... 자유, 재산, 안전 및 압제에 대한 저항권을 보존하는 데 있다.  
- 「프랑스 인권 선언문」 -

- ① 시민 계급의 성장                ② 계몽 사상의 확산
- ③ 사회 계약설의 수용               ④ 경제 대공황의 발생

4. 다음 사건들에서 시민들이 요구한 기본권은?

- 영국에서는 의원에 대한 세비 지급, 성년 남자의 보통 선거권 등을 요구하는 차티스트 운동이 있었다.
- 1948년 2월 파리의 학생과 노동자들은 왕과 내각의 실정을 비난하고 선거권 확대를 요구하는 시위를 벌였다.

- ① 자유권      ② 참정권      ③ 청구권      ④ 사회권

5. 법의 순기능을 <보기>에서 고른 것은?

<보기>

- ㄱ. 사회 질서 유지                    ㄴ. 사회 정의 실현
- ㄷ. 시민의 기본권 탄압               ㄹ. 특권 집단의 권익 보호

- ① ㄱ, ㄴ      ② ㄱ, ㄹ      ③ ㄴ, ㄷ      ④ ㄷ, ㄹ

6. 다음과 같은 역할을 하는 정치 참여 주체는?

이익 추구나 정권 획득보다 공익이 침해되지 않도록 감시하며, 서명 운동 및 시위 참여 등의 활동을 한다.

- ① 정당      ② 정부      ③ 이익단체      ④ 시민단체

7. 다음에 해당하는 사회적 쟁점의 해결 절차는?

다양한 해결 방안을 찾아보고, 그 결과를 예상하는 단계

- ① 문제 인식                            ② 개념과 용어의 명확화
- ③ 대안 모색과 결과 예측            ④ 지식 탐구와 가치 탐구

8. 다음과 같은 상황에서 자산 가치의 하락이 발생한 사람을 <보기>에서 고른 것은?

모든 재화 및 서비스에서 동일한 비율의 인플레이션 발생

<보기>

- ㄱ. 현금을 가진 자본가              ㄴ. 물품을 가진 상인
- ㄷ. 부동산을 가진 투자자           ㄹ. 급여로 생활하는 근로자

- ① ㄱ, ㄴ      ② ㄱ, ㄹ      ③ ㄴ, ㄷ      ④ ㄷ, ㄹ

9. 다음에 나타난 환율변동의 영향으로 옳은 것은?

1달러 = 1,100원 ⇨ 1달러 = 1,500원

- ① 석유 수입 가격 하락              ② 외채 상환 부담 증가
- ③ 국내 제품 수출 감소               ④ 개인의 해외여행 비용 감소

10. 다음과 관련된 문화의 개념은?

휴대전화의 보급은 급속도로 이루어졌으나 장소나 상황에 맞는 통신예절의 정착은 이루어지지 못했다.

- ① 문화 지체      ② 문화 융합      ③ 문화 충격      ④ 문화 동화

11. 1990년대 이후 우리나라 경제 성장의 특징으로 옳은 것은?

- ① 지식 기반 산업 발달              ② 정부 주도의 수출 지향
- ③ 노동 집약적 경공업 중심        ④ 중화학 공업의 기반 조성

12. 다음 사례에 나타난 문화 이해의 태도는?

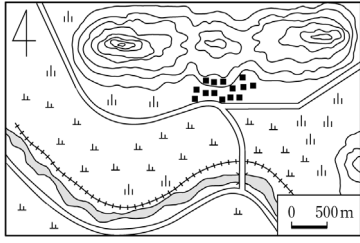
미국의 선교사들은 인디언들의 풍속과 종교를 사악한 것이라 하여 무시하며, 자신들의 문화를 우수하다고 생각했다.

- ① 문화 상대주의                      ② 문화 상대주의
- ③ 자문화 중심주의                   ④ 극단적 문화 상대주의

13. 사회적 쟁점의 민주적 해결을 위한 요소로 옳지 않은 것은?

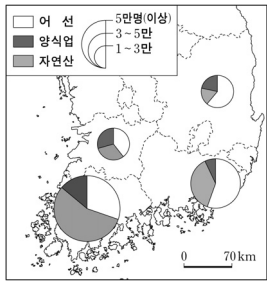
- ① 공동체 의식                        ② 합법적인 절차
- ③ 사회 정의의 원칙                ④ 지역 이기주의적 태도

14. 지도에 대한 설명으로 옳지 않은 것은?



- ① 촌락의 위치는 배산임수이다.
- ② 인구가 많이 밀집된 도시지역이다.
- ③ 산지는 대부분 북쪽에 위치해 있다.
- ④ 토지는 주로 논과 밭으로 이용된다.

15. 다음과 같은 통계지도는?



- ① 유선도
- ② 점지도
- ③ 도형표현도
- ④ 단계구분도

16. 우리나라의 하천에 대한 설명으로 옳은 것은?

- ① 계절에 따라 유량 변동이 심하다.
- ② 한강 하구에는 삼각주가 발달해 있다.
- ③ 큰 하천은 대부분 동해로 흘러들어 간다.
- ④ 하천 상류지역에서는 퇴적작용이 활발하다.

17. 다음 밑줄 친 내용과 관련 있는 지형은?

철원은 비록 ..... 그러나 들 가운데 물이 깊고 벌레 먹은 듯한 검은 돌이 있는데 이상스럽다.

- 이중환, 「택리지」 -

- ① 빙하지형    ② 화산지형    ③ 침식지형    ④ 퇴적지형

18. 우리나라의 서·남해안에 대한 설명으로 옳은 것은?

- ① 조석 간만의 차가 작다.
- ② 갯벌의 발달이 미약하다.
- ③ 해안단구가 잘 발달되어 있다.
- ④ 양식업이 활발하게 이루어지고 있다.

19. 다음 내용에 해당하는 기후는?

○ 연중 기온이 높고 강수량이 풍부하다.  
○ 콩고 분지, 인도네시아, 아마존 강 유역에서 나타난다.

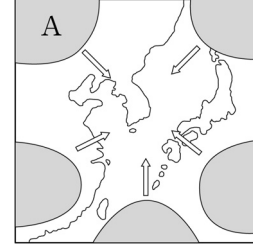
- ① 열대기후    ② 온대기후    ③ 냉대기후    ④ 건조기후

20. 다음 내용과 가장 관련이 깊은 환경 문제는?

○ 오랜 가뭄과 과도한 가축의 방목이 원인이다.  
○ 아프리카의 사헬 지대가 대표적인 피해지역이다.

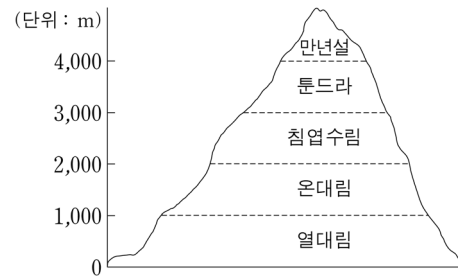
- ① 사막화    ② 스모그    ③ 부영양화    ④ 적조현상

21. 지도의 A 기단이 우리나라에 미치는 영향은?



- ① 무더위와 열대야가 나타난다.
- ② 집중호우로 홍수 피해를 일으킨다.
- ③ 북서계절풍이 불어와 강추위가 나타난다.
- ④ 영서 지방에 부는 늦새바람의 원인이 된다.

22. 그림과 같이 식생의 분포가 달라지는 가장 큰 원인은?

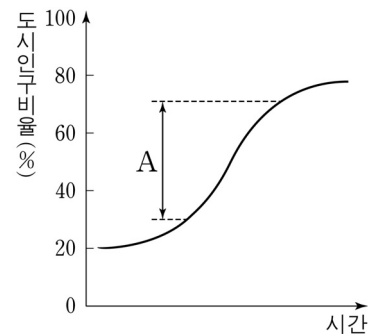


- ① 위도
- ② 바람
- ③ 수륙분포
- ④ 해발고도

23. 대관령 일대의 고위평탄면에서 고랭지 농업이 발달하게 된 배경이 아닌 것은?

- ① 범람원의 발달로 토양이 비옥하다.
- ② 저지대에 비해 여름철 기후가 서늘하다.
- ③ 해발고도는 높지만 경사가 비교적 완만하다.
- ④ 교통의 발달로 시장과의 접근성이 향상되었다.

24. 다음은 도시화 곡선을 나타낸 그래프이다. A 단계에 대한 설명으로 옳은 것은?



- ① 도시화의 종착 단계이다.
- ② 이촌향도 현상이 나타난다.
- ③ 농업 중심의 전통사회이다.
- ④ 도시 인구 비율이 감소한다.

25. 지역 개발 방식 중 <보기>에서 균형 개발 방식의 특징만을 고른 것은?

<보기>

- ㄱ. 성장 거점 지역을 선정하여 집중 투자
- ㄴ. 효율성보다 형평성을 중요시 하는 개발
- ㄷ. 낙후 지역에 우선 투자하여 지역 격차 해소
- ㄹ. 경제 발전 단계가 낮은 국가에서 주로 실시

- ① ㄱ, ㄴ    ② ㄱ, ㄷ    ③ ㄴ, ㄷ    ④ ㄷ, ㄹ

※ 확인사항

답을 OMR 카드의 해당란에 정확히 표기하였는가?

제 5 교시

과 학

수험번호 ( )

성 명 ( )

※ 다음 물음에 대한 가장 옳은 답을 하나만 골라, OMR 답안지에 정확히 표기하시오.

1. 다음 설명에 해당하는 운동 법칙은?

○ 알짜힘이 0이면 운동하는 물체는 등속 직선 운동을 한다.  
○ 버스가 갑자기 출발할 때 천장에 매달린 손잡이가 뒤로 기울어진다.

- ① 관성의 법칙 ② 가속도의 법칙
③ 작용·반작용 법칙 ④ 만유인력의 법칙

2. 전류의 자기 작용을 주로 이용하는 전기 기구는?

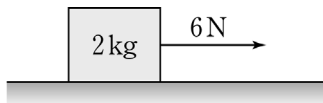
- ① 전동기 ② 전기 난로
③ 전기 밥솥 ④ 전기 다리미

3. 다음은 에너지 전환을 나타낸 것이다. (A)와 (B)에 해당하는 것으로 옳은 것은?

○ 발전 방식(A) : 위치 에너지 → 전기 에너지
○ 전기 기구(B) : 전기 에너지 → 역학적 에너지

- (A) (B) (A) (B)
① 수력 발전 형광등 ② 수력 발전 선풍기
③ 화력 발전 선풍기 ④ 화력 발전 형광등

4. 마찰이 없는 수평면 위에 정지해 있던 질량 2 kg의 물체에 수평 방향으로 6 N의 일정한 힘을 가했을 때, 가속도의 크기는?



- ① 2 m/s² ② 3 m/s² ③ 6 m/s² ④ 12 m/s²

5. 파동에 대한 설명으로 옳지 않은 것은?

- ① 음파는 종파이다.
② 파동은 에너지의 흐름이다.
③ 전자기파는 진공에서도 전파된다.
④ 소리는 멀리 전파되어도 세기가 일정하다.

6. 소비 전력이 220 V-110 W인 가전제품을 220 V 전원에 연결하여 3시간 동안 사용하였을 때, 소비 전력량은?

- ① 110 Wh ② 220 Wh ③ 330 Wh ④ 660 Wh

7. 전해질과 비전해질을 확인할 수 있는 가장 적당한 방법은?

- ① 물에 대한 용해성을 알아본다.
② 녹는점이나 끓는점을 측정한다.
③ 수용액 상태에서 전류가 흐르는지 알아본다.
④ 고체 결정 상태에서 전기 전도성이 있는지 알아본다.

8. 다음 물질의 수용액에 질산은 (AgNO3) 수용액을 떨어뜨릴 때 앙금이 생성되지 않는 것은?

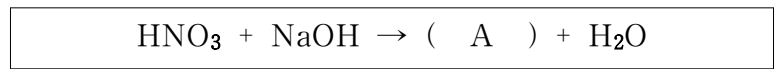
- ① 염화나트륨 (NaCl) ② 염화바륨 (BaCl2)
③ 염화칼슘 (CaCl2) ④ 질산칼륨 (KNO3)

9. 표는 용액의 액성에 따른 지시약의 색 변화를 나타낸 것이다. (A)와 (B)에 공통으로 해당하는 색은?

Table with 4 columns: 구분, 산성, 중성, 염기성. Rows: 페놀프탈레인 용액, 메틸오렌지 용액.

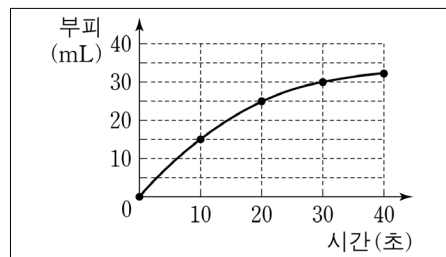
- ① 보라색 ② 붉은색 ③ 초록색 ④ 파란색

10. 다음은 질산과 수산화나트륨의 반응식을 나타낸 것이다. 이 반응에 대한 설명으로 옳지 않은 것은?



- ① 중화 반응이다. ② 염과 물이 생성된다.
③ A는 물에 잘 녹는다. ④ A의 화학식은 NaCl이다.

11. 그림은 묽은 염산과 마그네슘이 반응했을 때, 시간에 따라 발생하는 수소 기체의 부피를 나타낸 것이다. 반응 속도가 가장 느린 구간은?



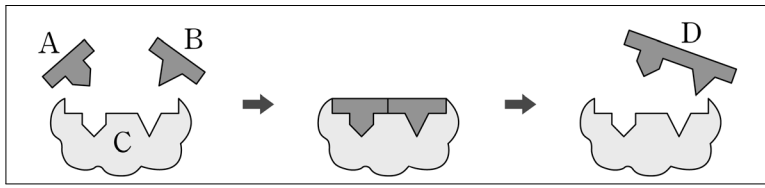
- ① 0~10초
② 10~20초
③ 20~30초
④ 30~40초

12. 다음 반응과 관계 있는 요인은?

○ 5% 염산 수용액보다 10% 염산 수용액이 마그네슘과 더 빠르게 반응한다.
○ 꺼져가는 불씨를 산소가 가득 들어 있는 용기 속에 넣었더니 불씨가 다시 살아났다.

- ① 온도 ② 농도 ③ 촉매 ④ 표면적

13. 그림은 효소 반응 과정을 나타낸 모식도이다. 효소를 나타낸 것은?



- ① A      ② B      ③ C      ④ D

14. 세포 호흡에 대한 설명으로 옳은 것은?

- ① 동물 세포에서만 일어난다.
- ② 포도당을 합성하는 반응이다.
- ③ 이산화탄소를 소모하고 산소를 방출한다.
- ④ 생물이 살아가는 데 필요한 에너지를 생성한다.

15. 감각 기관과 수용하는 자극이 바르게 연결된 것은?

- ① 눈 - 빛
- ② 귀 - 온도
- ③ 코 - 액체 상태의 화학 물질
- ④ 혀 - 기체 상태의 화학 물질

16. 다음 설명에 해당하는 것은?

- 신경계와 함께 항상성 유지에 관여한다.
- 내분비샘에서 생성되어 혈액으로 분비된다.

- ① 항원      ② 항체      ③ 응집원      ④ 호르몬

17. 여성의 생식 기관에 대한 설명으로 옳은 것만을 <보기>에서 모두 고른 것은?

<보기>

- ㄱ. 난소에서 난자가 만들어진다.
- ㄴ. 수란관은 태아에게 영양분을 공급하는 곳이다.
- ㄷ. 자궁은 수정란이 착상하여 태아로 자라는 곳이다.

- ① ㄱ      ② ㄴ      ③ ㄱ, ㄷ      ④ ㄴ, ㄷ

18. 여성의 생식 주기에 대한 설명으로 옳은 것은?

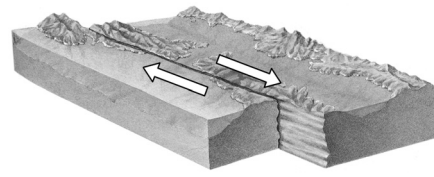
- ① 호르몬에 의해 조절된다.
- ② 월경 시작과 동시에 배란이 일어난다.
- ③ 배란된 난자가 수정되면 황체가 퇴화한다.
- ④ 월경이 일어날 때 자궁 안쪽 벽이 두꺼워진다.

19. 다음은 사람의 생식세포 형성에 대한 설명이다. ( ) 안에 들어갈 것으로 옳은 것은?

한 개의 제 1 정모세포로부터 4 개의 정자가 만들어지고,  
한 개의 제 1 난모세포로부터 ( ) 개의 난자가 만들어진다.

- ① 1      ② 2      ③ 4      ④ 8

20. 그림과 같이 인접한 두 판이 서로 반대 방향으로 이동하여 나타나는 판의 경계는?



- ① 발산형
- ② 보존형
- ③ 섭입형
- ④ 수렴형

21. 일기도 작성 방법에 대한 설명으로 옳은 것은?

- ① 안개는  $\nabla$ 로 표시한다.
- ② 등압선은 500 hPa 기준으로 2 hPa 간격으로 그린다.
- ③ 주위보다 기압이 높은 곳의 중심에는 '고'로 표시한다.
- ④ 등압선은 교차하거나 도중에 두 개로 갈라지게 그린다.

22. 우리나라 초여름에 장마 전선을 형성하여 많은 비를 내리게 하는 기단으로 짝지어진 것은?

- ① 북태평양 기단 - 양쯔강 기단
- ② 시베리아 기단 - 양쯔강 기단
- ③ 북태평양 기단 - 오호츠크해 기단
- ④ 시베리아 기단 - 오호츠크해 기단

23. 다음 설명에 해당하는 행성은?

- 행성의 밀도가 물보다 작다.
- 외행성이며 고리를 가지고 있다.

- ① 수성      ② 금성      ③ 화성      ④ 토성

24. 다음에서 설명하는 태양 표면에 나타나는 현상은?

- 주위보다 온도가 낮아 검게 보인다.
- 약 11년을 주기로 극대기와 극소기가 나타난다.

- ① 흑점      ② 홍염      ③ 채층      ④ 코로나

25. 우리은하에서 수 만 개에서 수 십만 개의 별들이 공 모양으로 조밀하게 모여 있는 집단은?

- ① 블랙홀      ② 구상 성단
- ③ 성간 물질      ④ 암흑 성운

※ 확인사항

답을 OMR 카드의 해당란에 정확히 표기하였는가?

# 제 6 교시 도 덕

수험번호 ( ) 성 명 ( )

※ 다음 물음에 대한 가장 옳은 답을 하나만 골라, OMR 답안지에 정확히 표기하시오.

1. 다음에서 설명하고 있는 것은?

- 지식 기반 사회의 중요한 자원
- 인간의 지적 활동의 결과로 얻어지는 무형의 생산물

- ① 기계      ② 정보      ③ 식량      ④ 컴퓨터

2. 다음에서 설명하는 사회 현상으로 가장 적절한 것은?

- 국제사회에서 상호 의존성 증가
- 초국적(超國籍) 기업의 등장과 확산
- 국가 단위를 초월한 활동 영역의 확대

- ① 세계화      ② 도시화      ③ 대중화      ④ 자동화

3. 다음과 같은 사회 현상의 발생 원인으로 가장 적절한 것은?

우리는 가끔 혼자 사는 노인이 돌아가셨는데 옆집에 사는 사람이 오랫동안 그 사실을 모른 채 지냈다가, 많은 사람들이 눈앞에서 벌어지고 있는 폭행 사건을 방관하였다는 소식을 접한다.

- ① 쾌락주의      ② 집단주의  
③ 공동체주의      ④ 극단적 개인주의

4. 다음에서 설명하는 입장에 해당하는 것은?

- 과학적 인식과 사고에 기초하여 모든 것을 판단해야 한다.
- 도덕적, 종교적 신념은 과학적으로 증명할 수 없으므로 무의미하다.

- ① 실존주의      ② 금욕주의  
③ 연고주의      ④ 과학 지상주의

5. 다음은 니부어(Niebuhr, R.)의 주장이다. ( )에 가장 적절한 것은?

사회 집단의 도덕성은 개인의 도덕성보다 현저하게 떨어진다.  
→ 개인의 양심만으로는 복잡한 사회 문제를 해결할 수 없다.  
→ 따라서 ( )을 통해 문제를 해결해야 한다.

- ① 개인의 자아실현      ② 개인의 도덕성 회복  
③ 종교적 신념 확립      ④ 사회 정책과 제도의 개선

6. 다음 글에서 밑줄 친 ‘그’는 누구인가?

그는 ‘아는 것이 힘이다’는 말을 강조하며, 『새로운 아틀란티스』에서 화약과 나침반, 인쇄기의 발명을 통한 과학적 이상 사회를 묘사하였다.

- ① 밀      ② 칸트      ③ 베이컨      ④ 하이데거

7. 다음 글을 통해 알 수 있는 우리 조상들의 자연관은?

우리 조상들에게는 성묘와 산놀이를 갔을 때, 가지고 간 음식물의 일부를 들짐승이나 벌레와 함께 나누는 관습이 있다. 이를 ‘고수레’ 또는 ‘고시래’라고 부른다.

- ① 이분법적 자연관      ② 생태 중심적 자연관  
③ 인간 중심적 자연관      ④ 정복 지향적 자연관

8. 다음과 같은 삶의 태도를 중시하는 동양 사상은?

무위자연(無爲自然)이란 인간이 인위적인 가식과 위선에서 벗어나 본래의 모습대로 살아가는 것이다.

- ① 도가      ② 유가      ③ 법가      ④ 묵가

9. 다음 글에서 알 수 있는 청소년기의 과제는?

인간은 자신의 삶을 어떻게 살 것인가에 대해 고민할 수 있는 유일한 존재이다. 그리고 ‘나는 누구인가?’라는 물음에 대한 답을 찾는 일은 청소년에게 주어진 중요한 삶의 과제이다.

- ① 신체적 성숙      ② 일탈 행위의 학습  
③ 자아 정체성 형성      ④ 타인에 대한 의존

10. 다음 사례와 가장 관계 깊은 조선 시대 향약의 덕목은?

반지하에 사는 김씨는 이번 집중호우로 인해 집이 물에 잠겨 버렸다. 이에 마을 주민들은 재해 복구 기금을 모아서 김씨에게 전달하였다.

- ① 덕업상권(德業相勸)      ② 과실상규(過失相規)  
③ 환난상휼(患難相恤)      ④ 예속상교(禮俗相交)

11. 다음 대화에서 을이 바라보는 청소년 문화에 대한 관점은?

갑: 요즘 청소년의 문화를 어떻게 생각하시나요?  
을: 기성세대의 문제점을 개선할 수 있는 가능성을 지니며, 미래 사회를 대비할 희망적인 문화라고 생각합니다.

- ① 대안 문화      ② 비행의 문화  
③ 저항의 문화      ④ 미성숙한 문화



제 8 교시

국사

수험번호 ( )

성명 ( )

※ 다음 물음에 대한 가장 옳은 답을 하나만 골라, OMR 답안지에 정확히 표기하시오.

1. 다음에서 설명하는 원시 신앙은?

- 자기 부족의 기원을 특정 동·식물과 연결시켜 숭배
- 단군신화에서 곰과 호랑이로 이 신앙의 흔적을 알 수 있음

- ① 신선사상    ② 산천숭배    ③ 토테미즘    ④ 샤머니즘

2. 다음에서 설명하는 제천행사를 개최한 국가는?

‘영고’라는 제천행사는 매년 12월에 개최되었는데, 이는 수렵사회의 전통을 보여주는 것이다.

- ① 고조선    ② 부여    ③ 진한    ④ 우산국

3. 삼국 시대 불교 수용의 의의로 옳은 것은?

- ① 동학을 확산시켰다.
- ② 선민사상을 퍼트렸다.
- ③ 유교와 통합을 이룰 수 있었다.
- ④ 사상을 통합하여 왕권 강화를 뒷받침했다.

4. 다음 중 삼국 시대 도교 전파와 관련된 유물은?



5. 다음은 백제의 도읍지 변천 과정을 나타낸 것이다. ( ) 안에 들어갈 지명은?

한성(위례성) ⇨ ( ) ⇨ 사비

- ① 금성    ② 웅진    ③ 복원경    ④ 금관경

6. 다음은 통일 신라 시대 문서의 내용을 간추린 것이다. 이러한 내용이 기록되어 있는 문서의 이름은?

토지는 논, 밭, 촌주위답, 내시령답 등 토지의 종류와 면적을 기록하고, 사람들은 인구, 가호, 노비의 수와 3년 동안의 사망, 이동 등 변동 내용을 기록하였고, 소와 말의 수, 뽕나무, 잣나무, 호두나무의 수까지 기록하였다.

- ① 균적    ② 공장안    ③ 민정문서    ④ 홍범14조

7. 다음에서 설명하는 시대 명칭은?

- 통일 신라와 발해가 공존한 시대
- 조선후기 실학자 유득공이 저술한 ‘발해고’에서 사용

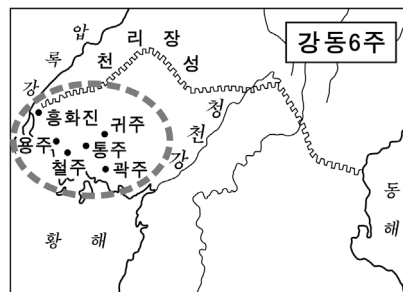
- ① 선사 시대    ② 원시 시대
- ③ 남북국 시대    ④ 근대 시대

8. 다음 내용에서 ( ) 안에 들어갈 말로 알맞은 것은?

신라 말 장보고는 완도에 ( )을 설치하여 해적을 소탕하고, 남해와 황해의 해상 무역권을 장악하였다.

- ① 청해진    ② 비사성    ③ 부여성    ④ 공험진

9. 지도에 ○으로 표시된 지역을 확보한 고려 시대 인물은?



- ① 계백
- ② 서희
- ③ 최영
- ④ 권율

10. (가)에 들어갈 내용으로 옳은 것은?

**서경천도운동**

- 배경: 문벌 귀족 사회 내부 모순
- 주동 인물: ( 가 )
- 주장: 서경천도, 금국정벌, 칭제건원

- ① 묘청    ② 설총    ③ 도선    ④ 원효

11. 고려 사회의 여성 지위에 대한 설명으로 적절한 것은?

- ① 아들에게만 재산이 상속되었다.
- ② 여성의 재가가 자유롭지 못했다.
- ③ 딸은 아들과 달리 호적에 기재하지 않았다.
- ④ 아들이 없을 때 양자를 들이지 않고, 딸이 제사를 지냈다.

12. 다음에서 설명하는 고려의 지배세력은?

원 간섭기 동안 형성된 지배층으로 종래의 문벌귀족가문, 무신 정권기에 새롭게 귀족층에 등장한 가문, 원과 관계를 이용하여 지배층에 편입된 가문 등으로 형성되었다.

- ① 진골    ② 6두품    ③ 호족    ④ 권문세족

13. 다음에서 설명하는 조선의 국왕은?

임진왜란 이후 대내적으로 전쟁의 뒷수습을 위한 정책을 실시하면서 대외적으로는 명과 후금 사이에서 신중한 중립 외교 정책으로 대처하였다.

- ① 세종 ② 인조 ③ 연산군 ④ 광해군

14. 조선 시대 지방 행정 조직에 대한 설명으로 옳지 않은 것은?

- ① 전국을 8도로 나누었다.
② 향리는 수령의 행정실무를 보좌하였다.
③ 수령은 지방의 행정·사법·군사권을 가지고 있었다.
④ 군현은 지방관이 파견되는 주현과 파견되지 않는 속현으로 나뉘었다.

15. 다음에서 설명하는 도자기는?

조선 전기 궁중이나 관청에서 널리 사용
깨끗하고 담백하며 순백의 고상함을 풍겨 선비의 취향과 어울림

- ① 청자 ② 백자 ③ 당삼채 ④ 옹기그릇

16. 다음 내용에서 ( ) 안에 들어갈 말로 알맞은 것은?

숙종 때, 안용복이 울릉도에 출몰하는 일본 어민들을 쫓아 내고, 일본에 건너가 울릉도와 ( )가 조선의 영토임을 확인받고 돌아왔다.

- ① 간도 ② 독도 ③ 거문도 ④ 위화도

17. 다음에서 설명하는 조약은?

운요호 사건을 계기로 1876년 조선이 일본과 맺은 우리나라 최초의 근대적 조약
해안 측량권과 치외법권을 내준 불평등 조약

- ① 한성 조약 ② 강화도 조약
③ 제물포 조약 ④ 한·일 신협약

18. 다음 사건들을 일어난 순서대로 배열한 것은?

ㄱ. 갑신정변 ㄴ. 갑오개혁
ㄷ. 을사조약 ㄹ. 한일병합

- ① ㄱ-ㄷ-ㄹ-ㄴ ② ㄱ-ㄹ-ㄷ-ㄴ
③ ㄹ-ㄷ-ㄱ-ㄴ ④ ㄹ-ㄴ-ㄷ-ㄱ

19. 다음에서 설명하는 일제의 정책은?

1920년대 더 많은 쌀을 일본으로 가져가기 위해 추진
늘어난 생산량보다 더 많은 양의 쌀이 일본으로 실려 나감

- ① 회사령 ② 산미 증식 계획
③ 토지 조사 사업 ④ 병참 기지화 정책

20. 다음 설명에 해당하는 것은?

1972년 서울과 평양에서 동시에 발표
자주·평화·민족 대단결의 통일 원칙을 내세움
이후 통일 논의의 기본 원칙이 됨

- ① 7·4 남북 공동 성명
② 6·15 남북 공동 선언
③ 한반도의 비핵화에 관한 공동 선언
④ 화해와 불가침 및 교류·협력에 관한 합의서

21. 다음에서 설명하는 조선 시대 토지 제도는?

경기 지방의 토지로 한정하여 지급
토지를 받은 사람이 죽거나 반역을 하면 반환
받은 토지의 일부를 수신전, 활양전 명분으로 세습

- ① 과전법 ② 직전법 ③ 수미법 ④ 관수관급제

22. 조선 후기 농민 경제의 변화로 옳지 않은 것은?

- ① 농사에 소를 이용하기 시작하였다.
② 일부 농민들은 광작 농업으로 부농이 되었다.
③ 쌀의 수요가 늘면서 밭을 논으로 바꾸는 현상이 활발하였다.
④ 몰락한 농민들은 도시로 옮겨 가서 상공업에 종사하거나 임노동자가 되었다.

23. 다음에서 설명하는 조선 시대 신분은?

천민의 대다수이며 재산으로 취급되어 매매, 상속, 증여의 대상이 됨

- ① 백정 ② 향리 ③ 노비 ④ 서얼

24. 다음 설명에 해당하는 회화는?

김홍도, 신윤복이 대표작가로 조선 후기 널리 유행
당시 사람들의 일상적인 모습을 생동감 있게 표현

- ① 민화 ② 문인화 ③ 풍속화 ④ 진경 산수화

25. 다음에서 설명하는 일제 강점기 한국사 연구 방법은?

한국사의 발전 주체가 우리 민족임을 강조하면서 식민주의 사학의 허구성을 밝히는 데 힘을 기울였다.
대표 사학자로는 민족의 '혼'을 강조한 박은식과, '낭가 사상'을 강조한 신채호가 있었다.

- ① 식민 사학 ② 실증주의 사학
③ 민족주의 사학 ④ 사회 경제 사학

※ 확인사항

답을 OMR 카드의 해당란에 정확히 표기하였는가?